

Шифр Г-7-1

БЛАНК РЕГИСТРАЦИИ

Фамилия, Имя, Отчество Ликитина Ана Викторовна

Класс 7

Образовательная организация МБОУ "Яблоневская СОШ"

Название предмета География

№ аудитории №5

Дата проведения олимпиады 18.11.2020

Шифр Г-7-1

БЛАНК РЕГИСТРАЦИИ

Фамилия, Имя, Отчество Ликитина Яна Викторовна

Класс 7

Образовательная организация МБОУ "Яблоневская ООШ"

Название предмета География

№ аудитории № 5

Дата проведения олимпиады 18.11.2020

ВСЕРОССИЙСКАЯ ОЛИМПИАДА ШКОЛЬНИКОВ 2020-2021 УЧ. Г.
МУНИЦИПАЛЬНЫЙ ЭТАП**ДЛЯ УЧАСТНИКОВ**
10:00 – 10:35

География

7 класс

ЗаданияОбщее время выполнения работы – **180 минут**.На выполнение заданий I (тестового) раунда отводится **60 минут**. На II (аналитический) раунд отводится **120 минут**.

При ответе на задания запрещено пользоваться школьными и прочими атласами, справочными материалами, а также учебниками, мобильными телефонами, карманными компьютерами! Желаем успеха!

I РАУНД (ТЕСТОВЫЙ)Ответьте на поставленные вопросы, выбрав **один** правильный вариант ответа. При ответе на вопросы будьте очень внимательны, так как некоторые вопросы требуют определить неверный вариант или имеют формулировку с отрицанием.

1. Выберите правильное сочетание «горная система – высочайшая точка»:

- 1) Альпы – г. Аконкагуа (6960 м); 2) Алтай – г. Белуха (4506 м);
3) Большой Кавказ – Пик Коммунизма (7495 м); 4) Альпы – Эльбрус (5642 м).

2. Выберите вариант ответа, в котором представлены только страны южного полушария:

- 1) Алжир, Непал, Норвегия, Марокко; 2) Мексика, Дания, Швеция, Вьетнам;
 3) Танзания, Перу, Намибия, Новая Зеландия; 4) Испания, Франция, Австралия, Индия.

3. Выберите правильное утверждение о проливах Земли:

- 1) Мозамбикский пролив расположен между материком Африка и островом Мадагаскар;
2) Пролив Дрейка расположен между Антарктидой и Австралией;
3) Берингов пролив расположен между островом Гренландия и Северной Америкой;
4) Баб-Эль-Мандебский пролив расположен между континентами Европа и Африка.

4. Выберите из предложенного списка морей самое соленое:

- 1) Охотское; 2) Аравийское; 3) Южно-Китайское; 4) Балтийское.

5. Выберите вариант ответа, в котом представлены объекты рельефа, расположенные **не** в Евразии:

- 1) г. Аконкагуа, г. Косцюшко, г. Килиманджаро, влк. Фудзияма;
2) Великая Китайская равнина, Кордильеры, Скандинавские горы, Альпы;
 3) Атласские горы, Большой Водораздельный хребет, Анды, Капские горы;
4) Карпаты, Апеннинские горы, Алтай, Уральские горы.

6. В каком из указанных районов не может быть действующих вулканов:

- 1) п-ов Камчатка; 2) Восточно-Африканское плоскогорье; 3) Анды;
 4) Амазонская низменность.

7. Как называются формы рельефа, создаваемые при помощи ветра:

- 1) моренные; 2) карстовые; 3) эоловые; 4) водноэрозионные.

8. В каком из климатических поясов наблюдается значительный летний пик осадков:

- 1) тропический; 2) экваториальный; 3) субтропический; 4) субэкваториальный.

9. Выберите вариант ответа, в котором указаны самые сухие места на Земле:
- ① Сухие долины Антарктиды, пустыня Атакама, Египет;
 - 2) гора Черапунджи, Бразильское плоскогорье, г. Сочи (Россия);
 - 3) Восточно-Европейская равнина, г. Народная (Уральские горы), г. Оймякон (Россия);
 - 4) о. Мадагаскар, Королевство Марокко, западное побережье Австралии.
10. Выберите группу географических объектов, которые наиболее подвержены влиянию тропических циклонов:
- 1) западное побережье Скандинавского п-ва, п-ов Лабрадор, Алеутские о-ва;
 - ② п-ов Индокитай, Малаккский п-ов, побережья Аргентины, Уругвая и Бразилии;
 - 3) побережье, омываемое морем Амундсена, Земля Королевы Мод, Земля Уилкса;
 - 4) большая часть территории Канады, о. Гренландия, Чукотский п-ов.
11. Выберите группу стран, расположенных в умеренном климатическом поясе:
- 1) Испания, Португалия, Греция; 2) Мавритания, Чад, Эфиопия;
 - ③ Великобритания, Монголия, Чехия; 4) Мексика, Куба, Венесуэла.
12. Укажите вариант ответа, в котором представлены только полезные ископаемые, применяемые как строительные материалы или сырье для их производства:
- 1) торф, каменный уголь, фосфориты, гипс; 2) природный газ, нефть, полевой шпат;
 - 3) калийные соли, бокситы, сера, нефелины; ④ гранит, мрамор, песок, глина.
13. Выберите вариант ответа, в котором верно указано соответствие «Полуостров – государство, на котором оно находится»:
- ① п-ов Индокитай – Вьетнам; 2) п-ов Лабрадор – Мексика;
 - 3) п-ов Сомали – Мавритания; 4) Малаккский п-ов – Филиппины.
14. Укажите вариант ответа, в котором правильно указано соответствие «столицы стран мира – материк»:
- 1) Луанда, Найроби, Нуакшот – Северная Америка;
 - ② Каракас, Джорджтаун, Асунсьон – Южная Америка;
 - 3) Тирана, Улан-Батор, Бишкек – Африка; 4) Манагуа, Тегусигальпа, Панама – Евразия.
15. Выберите вариант ответа, в котором указано государство с наименьшей плотностью населения: 1) Намибия; ② Эфиопия; 3) Республика Корея; 4) Швейцария.
16. Укажите верное соотношение «Пустыня – материк»:
- 1) пустыня Виктория – Северная Америка; ② пустыня Атакама – Африка;
 - 3) пустыня Гоби – Евразия; 4) пустыня Калахари – Южная Америка.
17. Выберите неправильное утверждение:
- 1) Красное море омывает северо-восточное побережье Африки и юго-западное побережье Аравийского полуострова;
 - 2) Атласские горы расположены на северо-западе Африки;
 - 3) Аденский залив омывает берега государства Сомали;
 - ④ чтобы попасть по суше от побережья Средиземного моря к мысу Доброй Надежды необходимо двигаться на север.
18. Укажите правильное сочетание «Исследователь – географический регион, в котором работал»:
- ① Д. Ливингстон – Африка; 2) Д. Кук – п-ов Аляска;
 - 3) Пржевальский – Канадский Арктический архипелаг;
 - 4) М.П. Лазарев, Ф.Ф. Беллинсгаузен – Средиземное море.

Шифр Г-7-1

19. Выберите правильное утверждение, говорящее о распространении природной зоны в конкретном географическом объекте:

- 1) тропические пустыни – Среднесибирское плоскогорье;
- 2) влажные экваториальные леса – побережье Гвинейского залива;
- 3) тундра и лесотундра – побережье Мексиканского залива;
- ④ саванны и редколесья – побережье Средиземного моря.

20. Выберите правильное утверждение «Океаническое течение – океан»:

- 1) Гольфстрим – Индийский;
- ② Фолклендское – Северный Ледовитый;
- 3) Куроисио – Тихий;
- 4) Перуанское – Атлантический.

КОЛИЧЕСТВО БАЛЛОВ ЗА ТЕСТОВЫЙ РАУНД – 20

Шифр Г-7-1

ВСЕРОССИЙСКАЯ ОЛИМПИАДА ШКОЛЬНИКОВ 2020-2021 УЧ. Г.
МУНИЦИПАЛЬНЫЙ ЭТАП

10:40. - 11:50

География

7 класс

Задания**II РАУНД (АНАЛИТИЧЕСКИЙ)**На II (аналитический) раунд отводится **120 минут**.

При ответе на задания запрещено пользоваться школьными и прочими атласами, справочными материалами, а также учебниками, мобильными телефонами, карманными компьютерами! Желаем успеха!

Задание 1. «Картография».

Вашему вниманию представляется фрагмент топографической карты участка местности. Необходимо его изучить и ответить на ряд вопросов. Результаты своего картографического исследования необходимо оформить в предложенной таблице.

№	Вопрос	Ответ
1.	Какие объекты антропогенного рельефа обозначены цифрой 1?	<u>Каналы</u>
2.	Какой вид минерального сырья добывается на объекте под номером 2? Как называется этот объект?	Сырье: <u>глина</u> . Объект: <u>образ</u> .
3.	Какой гидрографический объект расположен под номером 3? На какой абсолютной высоте находится этот объект?	Объект: <u>родник</u> . Высота: <u>144,9</u> м.
4.	Какая часть участка местности наиболее заболочена (указать сторону горизонта)?	<u>Север</u>
5.	Какая максимальная высота фиксируется на предложенном участке местности?	<u>159,7</u> м
6.	В каком направлении и по какому азимуту необходимо двигаться, чтобы попасть из совхоза Беличи в город Снов (для точности измерения примите за точки отчета примерные геометрические центры объектов)?	Направление: <u>Юго-Восток</u> . Азимут: <u>135°</u> .
7.	Какие объекты обозначены стрелками на карте под цифрой 4? Какова глубина этих объектов?	Объект: <u>образ</u> . Глубина: <u>79</u> м.
8.	Разъедутся ли два грузовых автомобиля, каждый из которых имеет ширину 3,5 м, следующие из совхоза Беличи по проезжей части шоссе, идущему в восточном направлении? Свой ответ обоснуйте.	<u>Нет</u> Обоснование: <u>Ширина 2 грузовиков = 7 м.</u> <u>Ширина шоссе = 6 м.</u>
9.	Какие хозяйственные объекты можно увидеть на карте в городе Снов?	<u>сады, электр. станции</u>
10.	Какой из склонов – под цифрой 5 или под цифрой 6 – будет круче?	Под цифрой <u>5</u> .

№	Вопрос	Ответ
11.	В каком из лесов древесина будет более зрелая (толщина стволов больше) – под цифрой 7 или 8?	Под цифрой <u>7</u> .
12.	В каком из лесов можно добывать хвойную древесину (лес под цифрой 7 или 8)?	Под цифрой <u>8</u> .
13.	По какой антропогенной форме рельефа (созданной человеком) проходят железные дороги на представленном плане местности?	<i>Саги</i>
14.	К какой природной зоне относится данный участок местности?	<i>Шеманские леса</i>

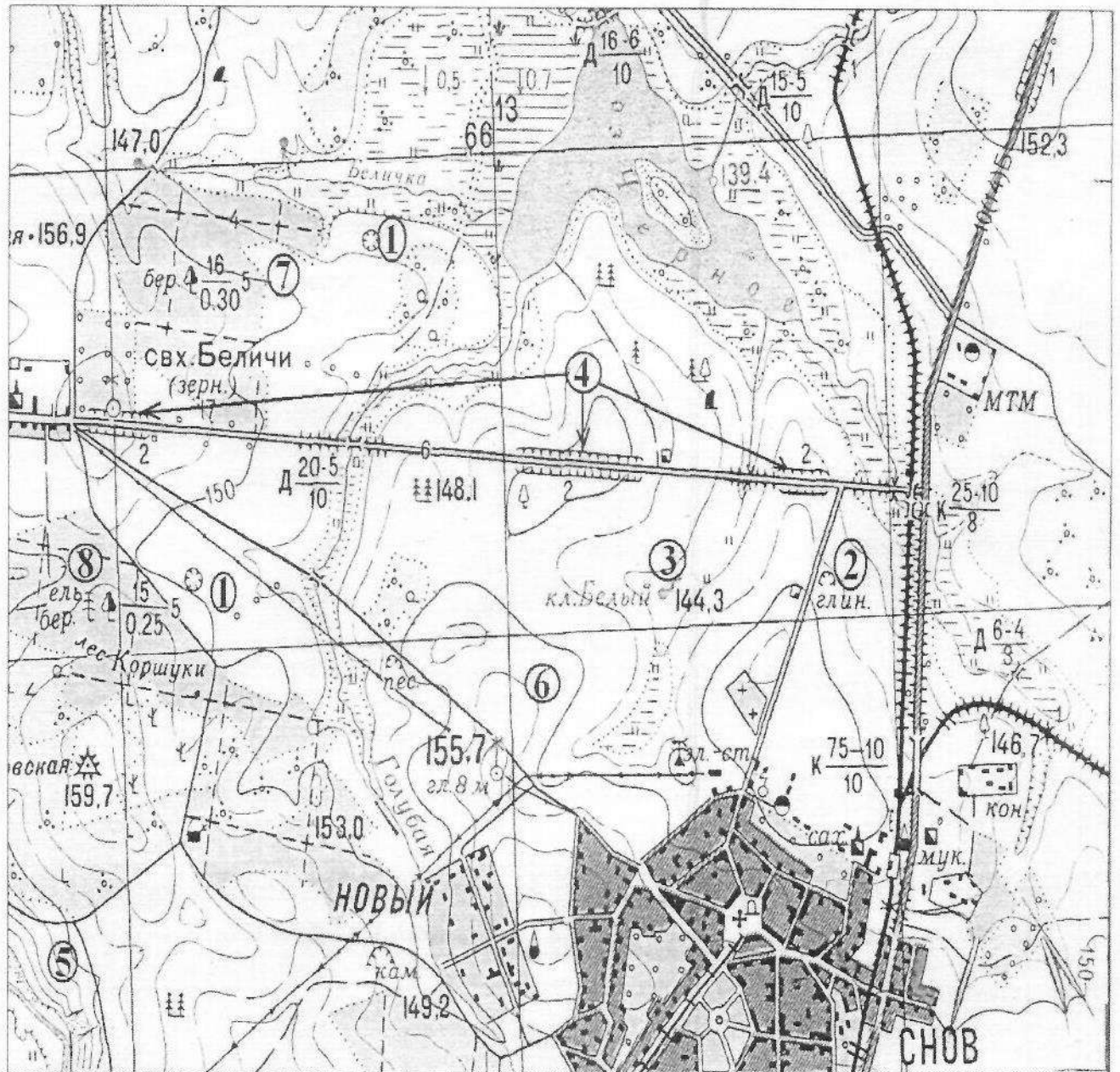


Рис. 1. Участок местности для задания 1

КОЛИЧЕСТВО БАЛЛОВ – 15

Задание 2. «Озера России и мира».

1. На карте, представленной на рисунке 2, цифрами отмечены некоторые крупнейшие и известные озера мира. Вам предстоит вспомнить названия этих озер и вписать их названия в предложенную ниже таблицу 1.

В качестве так любимыми Вами подсказок предоставляется список озер в алфавитном порядке, из которого Вам и предстоит выбрать названия озер, изображенных на карте: *Аральское море, Байкал, Большое Медвежье, Большое Невольничье, Верхнее, Виктория, Виннипег, Гурон, Каспийское море, Маракайбо, Мертвое море, Мичиган, Ньяса, Онтарио, Танганьика, Титикака, Чао, Эйр, Эри*. Вы можете потренироваться и подписать эти озера на представленной Вам карте, но проверяться будут только названия в таблице 1!

2. В таблице 2 представлены некоторые свойства и характеристики озер и их групп. Внимательно изучите их и впишите названия озер, особенности, соответствующие этим характеристикам или озерам, названия озер.

Таблица 1

№ озера на карте	Название	№ озера на карте	Название
1	<i>Большое Медвежье</i>	11	<i>Виктория</i>
2	<i>Большое Невольничье</i>	12	<i>Танганьика</i>
3	<i>Верхнее</i>	13	<i>Ньяса</i>
4	<i>Гурон</i>	14	<i>Чао</i>
5	<i>Мичиган</i>	15	<i>Каспийское море</i>
6	<i>Онтарио</i>	16	<i>Мертвое море</i>
7	<i>Эри</i>	17	<i>Аральское море</i>
8	<i>Виннипег</i>	18	<i>Байкал</i>
9	<i>Маракайбо</i>	19	<i>Эйр</i>
10	<i>Титикака</i>		

Таблица 2

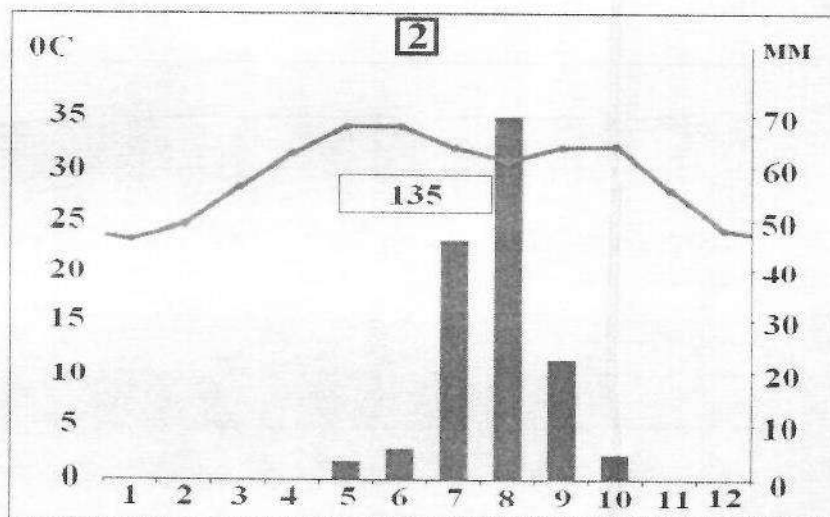
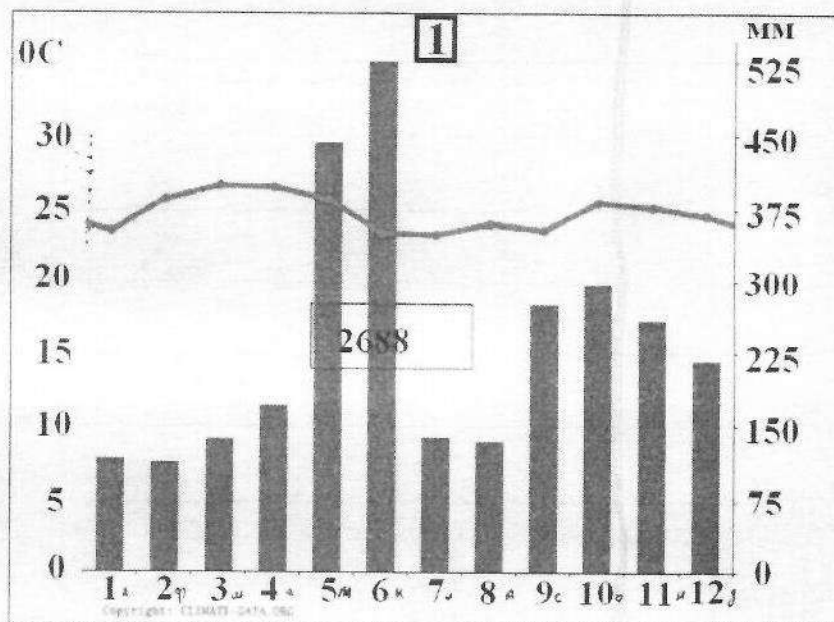
№	Характеристика озер или их групп	Ваш ответ
1.	Как называется группа озер, отмеченных цифрами 3, 4, 5, 6, 7?	<i>Великие</i>
2.	Между какими странами проходит государственная граница по озерам группы 3, 4, 5, 6, 7?	1. <i>ША</i> 2. <i>Канада</i>
3.	В этом море-озере отмечен один из самых высоких показателей солености в мире (достигает 350‰)	<i>Мертвое море</i>
4.	На территории каких трех стран располагается озеро, обозначенное числом 16?	1. <i>Франция</i> 2. _____ 3. _____
5.	Какое из указанных озер является самым глубоким озером мира. Напишите его название.	<i>Байкал</i>
6.	Какая особенность гидрологического режима характерна для озер, обозначенных числами 14 и 19?	<i>периодически пересыхают, но потом восстанавливаются</i>
7.	Каким по происхождению является озеро под цифрой 9?	<i>искусственное</i>
8.	Какое из озер имеет выход к территории таких стран как Россия, Казахстан, Туркменистан, Иран, Азербайджан?	<i>Каспийское море (15)</i>

№	Характеристика озер или их групп	Ваш ответ
9.	Как называется море-озеро, от акватории которого практически ничего не осталось (исчезающее озеро)?	<i>Аральское море</i>
10.	Озеро, название которого переводится с языка индейцев как «свинцовая гора».	<i>Виннипег</i>
11.	Каково происхождение группы озер 3, 4, 5, 6, 7?	<i>естественное</i>
12.	Какое озеро названо в честь королевы Великобритании (XIX в.)?	<i>Виктория</i>

КОЛИЧЕСТВО БАЛЛОВ – 25

Задание 3. «Климатическая прогулка».

1. Вам представлены на рассмотрение три диаграммы различных типов и подтипов климата Африки (1, 2 и 3). Внимательно изучите их и впишите номера диаграмм в соответствующие этим типам климата квадраты на карте Африки (рис. 3).



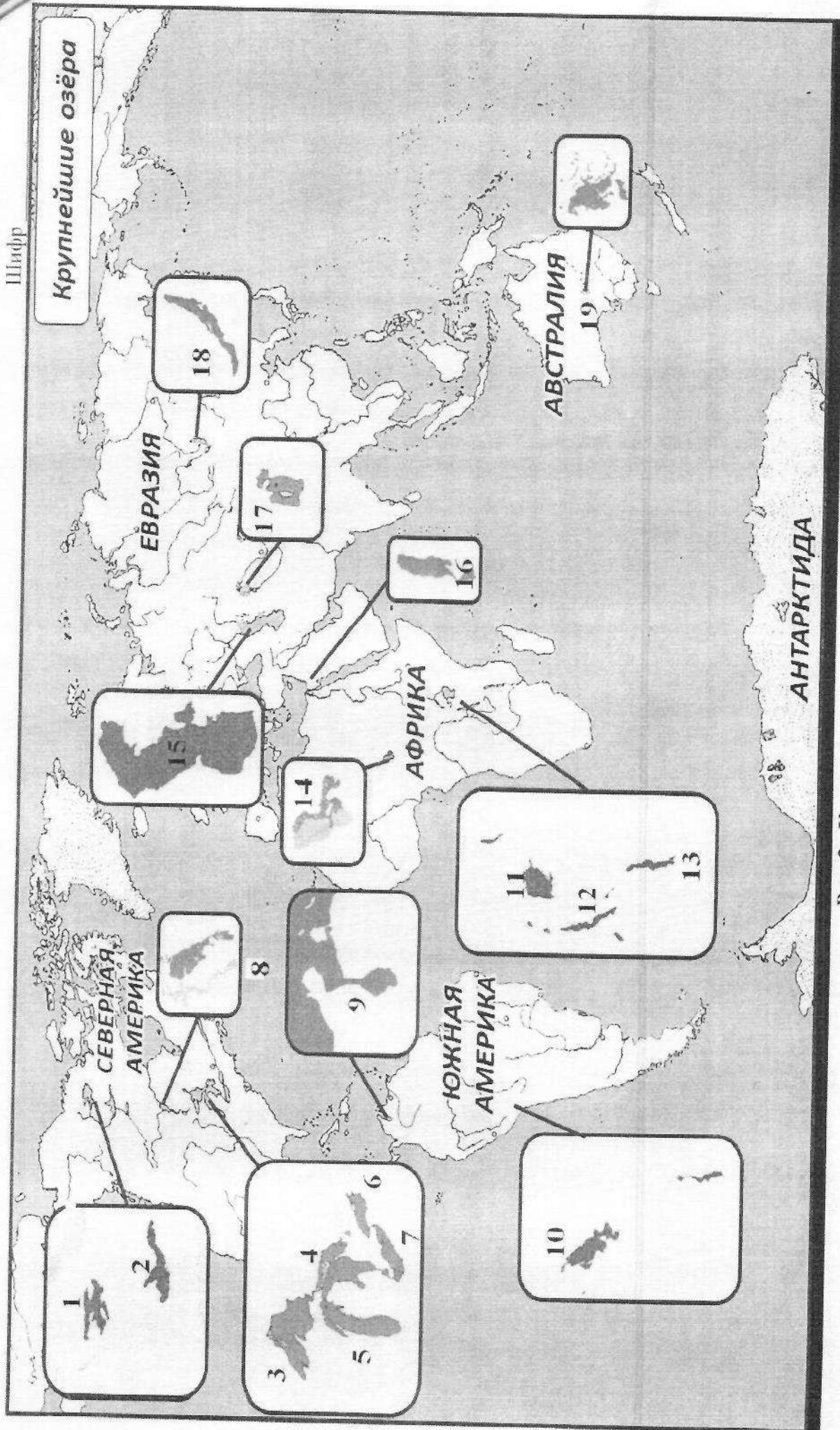
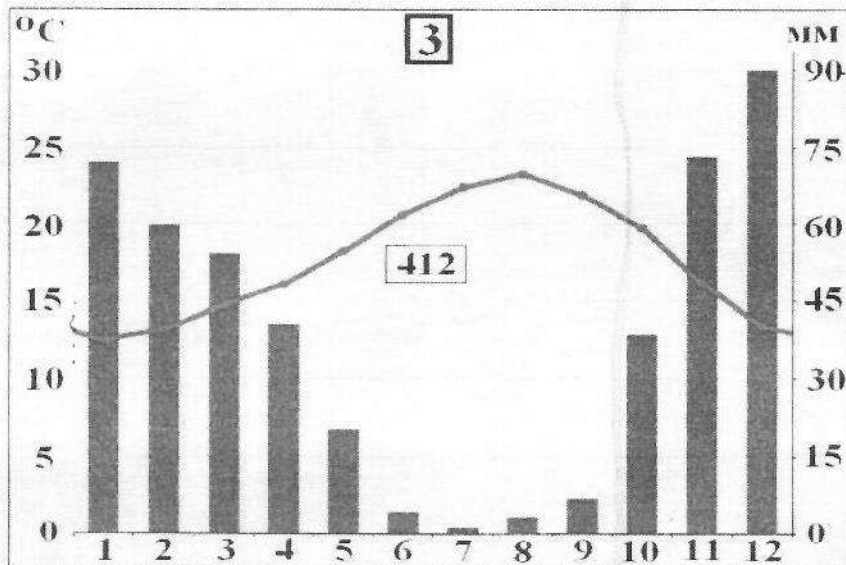


Рис. 2. Крупнейшие озера мира



2. Проведя исследование климатограмм, заполните таблицу 3.

Таблица 3

№ климатограммы	Определение параметров климата	Вывод о типе/подтипе климата
1	1. Годовое количество осадков: <u>2638</u> мм; 2. Температура самого теплого месяца: <u>28</u> °C; 3. Температура самого холодного месяца: <u>23</u> °C; 4. Годовая амплитуда температуры: <u>5</u> °C	Экваториальный климат: дождливое теплое лето, жаркая сухая зима.
2	1. Годовое количество осадков: <u>135</u> мм; 2. Температура самого теплого месяца(ев): <u>34</u> °C; 3. Температура самого холодного месяца: <u>23</u> °C; 4. Годовая амплитуда температуры: <u>11</u> °C	Субэкваториальный тропический климат: высокие температуры, низкая влажность зима, высокая влажность лето.
3	1. Годовое количество осадков: <u>412</u> мм; 2. Температура самого теплого месяца(ев): <u>23</u> °C; 3. Температура самого холодного месяца: <u>12</u> °C; 4. Годовая амплитуда температуры: <u>11</u> °C; 5. Месяц с максимальным количеством осадков: <u>Декабрь</u> ; 6. Месяц с минимальным количеством осадков: <u>Июль</u> .	Субтропический климат: муссонное с высокими температурами, зима с большим кол-вом осадков и пониженные температуры.

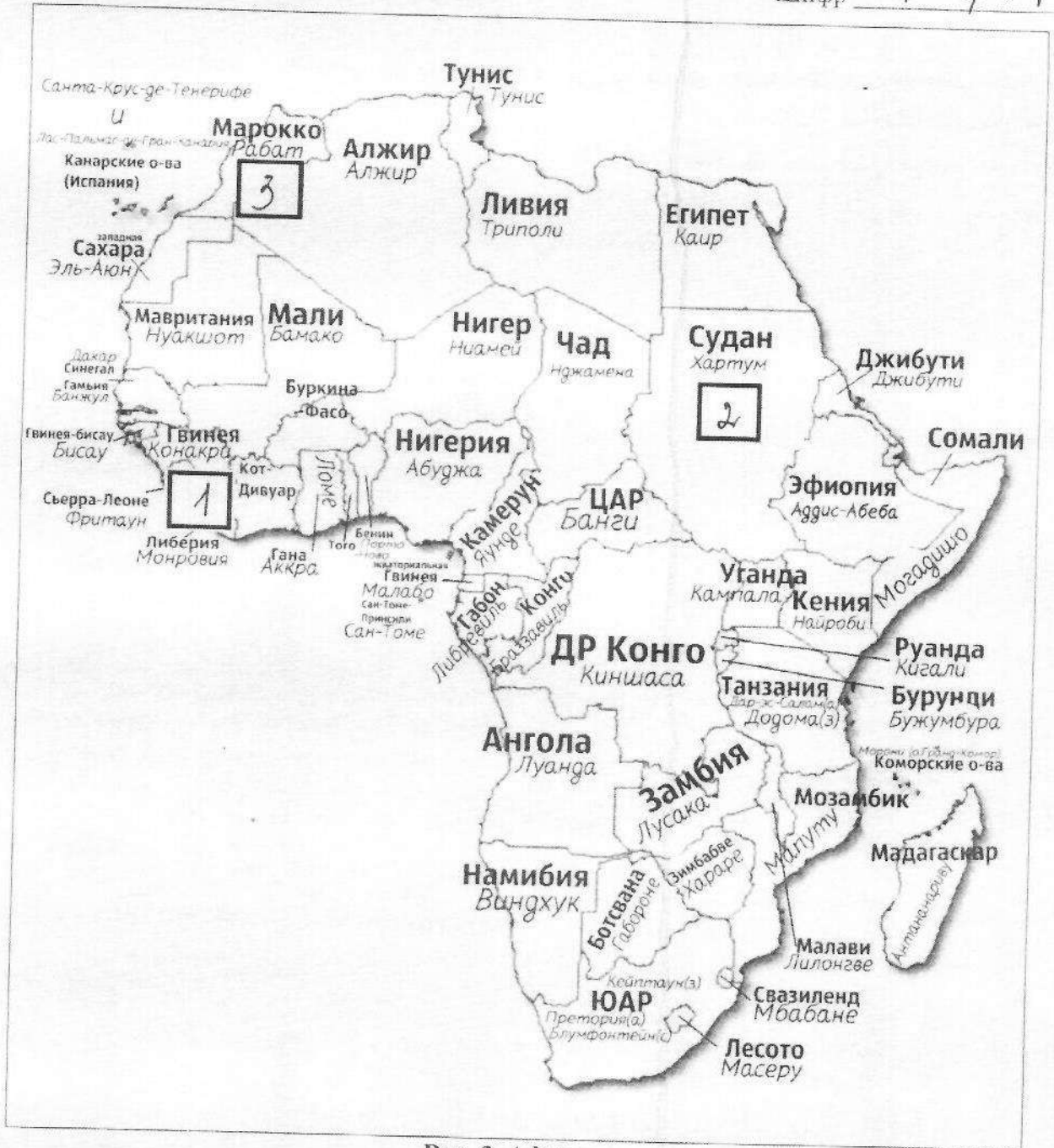


Рис. 3. Африка

3. Ответьте на вопросы, связанные с формированием некоторых типов климата на изучаемой территории. Свои выводы запишите в таблицу 4 в соответствующие ячейки.

Таблица 4

№	Вопрос	Ответ
1.	Объясните, с чем связано различие значений температур и количества выпадаемых осадков в теплый и холодный период времени?	<p>Из-за разницы в продолжительности солнечных дней в летний период (лето проходит в южной части полушария) как у южного климата, так и у северного, а зимой как у южного климата, так и у северного.</p>


№	Вопрос	Ответ
2.	С чем связано большое и постоянное по месяцам количество осадков в типе, климата, изображенном на диаграмме под номером 1?	<i>Этот тип климата относится к экваториальному климатическому поясу, где много осадков, из-за восходящих движений воздуха и низкого давления.</i>
3.	Как можно оценить суточные амплитуды температуры воздуха климата, представленного на диаграмме 2? С чем связаны такие значения суточных амплитуд?	
4.	На климат каких территорий Африки оказывают значительное влияние холодные океанические течения? Назовите эти течения. В чем проявляется их влияние на климат?	<p>Территории:</p> <p>1. _____ ;</p> <p>2. _____ ;</p> <p>3. _____ ;</p> <p>Течения:</p> <p>1. _____ ;</p> <p>2. _____ ;</p> <p>3. _____ ;</p> <p>Влияние:</p>
5.	Назовите ветры, которые дуют в Африке из тропических широт в экваториальные и имеют северо-восточное и юго-восточное направление (в зависимости от полушария).	<i>Пассаты.</i>


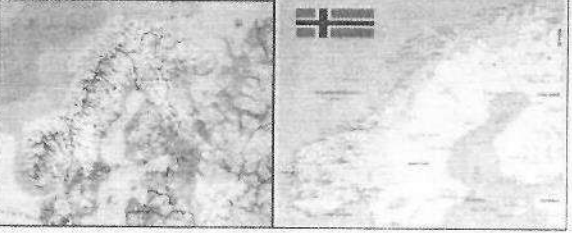
КОЛИЧЕСТВО БАЛЛОВ – 25

Задание 4. «Виртуальная прогулка по странам».

Вам предстоит виртуальная прогулка по некоторым странам мира. В таблице 5 представлены описания или фото-миниатюры особенностей или достопримечательностей некоторых стран мира. Вам необходимо ознакомиться с этими особенностями на миниатюрах и ответить на вопросы.

Таблица 5

№	Особенности и миниатюры	Вопросы
1.	<p>По ряду представленных фотографий определите, о какой стране идет речь.</p> 	<p>1. Название достопримечательности: _____.</p> <p>2. Страна: _____.</p> <p>3. Столица: _____.</p> <p>4. Река, омывающая достопримечательность: _____.</p> <p>5. Название моста на 2 рисунке: _____.</p> <p>6. Как называются проливы между островами, на котором находится страна, и основной территорией Европейского континента: 1) _____; 2) _____.</p>
2.	<p>Какая страна изображена на фотографии-миниатюре?</p> 	<p>1. Страна: <u>Япония</u></p> <p>2. Столица этой страны: <u>Токио</u></p> <p>3. Название священной горы (вулкана) этой страны: <u>в.к. Фудзияма</u></p> <p>4. Название большого количества островов, расположенных на небольшом расстоянии друг от друга (характерно для этой страны): <u>Архипелаг</u></p> <p>5. Цветок, воспеваемые в культуре этой страны и связанный со многими традициями: <u>Сакура</u></p> <p>6. Популярный ядовитый рыбный деликатес страны: <u>Фуку</u></p> <p>7. Формальный глава этой страны: _____</p> <p>8. Традиционная одежда этой страны: <u>кимаono</u></p> <p>9. Традиционный вид борьбы в стране: <u>сумо</u></p>

№	Особенности и миниатюры	Вопросы
		
3.		<p>1. Эта страна находится на полуострове, расположенном между Аравийским морем и Бенгальским заливом. Название полуострова: <u>Индостан</u></p> <p>2. Название страны: <u>Индия</u></p> <p>3. Столица этой страны: _____</p> <p>4. Священное животное в этой стране: <u>священная корова</u></p> <p>5. Главная административно-территориальная единица страны: _____</p> <p>6. Известный мавзолей-мечеть, расположенный в этой стране: _____</p> <p>7. Как называют жителей этой страны, приверженцев индуизма: <u>буддисты</u></p> <p>8. Как называется островное государство, расположенное к югу от полуострова, на котором расположена исследуемая страна (остров имеет такое же название, как и страна): _____</p>
4.	<p>Эта страна находится на севере и западе самого большого полуострова Европы. Флаг этой страны – синий крест на красном фоне.</p> 	<p>1. Название самого большого полуострова Европы: <u>Фен</u></p> <p>2. Название страны: <u>Норвегия</u></p> <p>3. Столица этой страны: <u>Осло</u></p> <p>4. Самый большой северный сосед этой страны (страна): <u>Швеция</u></p> <p>5. Северный народ, живущий издревле на территории этой страны и упомянутом полуострове: <u>викинги</u></p> <p>6. Как называется корабль этого народа: <u>драккар</u></p>

Шифр Г-7-1

№	Особенности и миниатюры	Вопросы
		

КОЛИЧЕСТВО БАЛЛОВ – 15

КОЛИЧЕСТВО БАЛЛОВ ЗА АНАЛИТИЧЕСКИЙ РАУНД – 80

ОБЩЕЕ КОЛИЧЕСТВО БАЛЛОВ – 100