

Шифр А-7-29

Бланк регистрации

Фамилия, Имя, Отчество Кудашев Тихон Александрович

Класс 7И

Образовательная организация МБОУ СОШ "Школа Будущего"

Название предмета География

№ аудитории № 83

Дата проведения олимпиады 18.11.2020

Шифр 7-7-29

Бланк регистрации

Фамилия, Имя, Отчество Кудашев Тихон Александрович

Класс 7 И

Образовательная организация МБОУ СОШ "Школа Будущего"

Название предмета География

№ аудитории №83

Дата проведения олимпиады 18.11.2020

**ВСЕРОССИЙСКАЯ ОЛИМПИАДА ШКОЛЬНИКОВ 2020-2021 УЧ. Г.
МУНИЦИПАЛЬНЫЙ ЭТАП***География**7 класс***Задания**Общее время выполнения работы – **180 минут**.На выполнение заданий I (тестового) раунда отводится **60 минут**. На II (аналитический) раунд отводится **120 минут**.

При ответе на задания запрещено пользоваться школьными и прочими атласами, справочными материалами, а также учебниками, мобильными телефонами, карманными компьютерами! Желаем успеха!

I РАУНД (ТЕСТОВЫЙ)Ответьте на поставленные вопросы, выбрав **один** правильный вариант ответа. При ответе на вопросы будьте очень внимательны, так как некоторые вопросы требуют определить неверный вариант или имеют формулировку с отрицанием.

1. Выберите правильное сочетание «горная система – высочайшая точка»:

- 1) Альпы – г. Аконкагуа (6960 м); 2) Алтай – г. Белуха (4506 м);
③ Большой Кавказ – Пик Коммунизма (7495 м); 4) Альпы – Эльбрус (5642 м).

2. Выберите вариант ответа, в котором представлены только страны южного полушария:

- 1) Алжир, Непал, Норвегия, Марокко; 2) Мексика, Дания, Швеция, Вьетнам;
③ Танзания, Перу, Намибия, Новая Зеландия; 4) Испания, Франция, Австралия, Индия.

3. Выберите правильное утверждение о проливах Земли:

- 1) Мозамбикский пролив расположен между материком Африка и островом Мадагаскар;
2) Пролив Дрейка расположен между Антарктидой и Австралией;
3) Берингов пролив расположен между островом Гренландия и Северной Америкой;
④ Баб-Эль-Мандебский пролив расположен между континентами Европа и Африка.

4. Выберите из предложенного списка морей самое соленое:

- ① Охотское; 2) Аравийское; 3) Южно-Китайское; 4) Балтийское.

5. Выберите вариант ответа, в котом представлены объекты рельефа, расположенные **не** в Евразии:

- ① г. Аконкагуа, г. Косцюшко, г. Килиманджаро, влк. Фудзияма;
2) Великая Китайская равнина, Кордильеры, Скандинавские горы, Альпы;
3) Атласские горы, Большой Водораздельный хребет, Анды, Капские горы;
4) Карпаты, Апеннинские горы, Алтай, Уральские горы.

6. В каком из указанных районов не может быть действующих вулканов:

- 1) п-ов Камчатка; 2) Восточно-Африканское плоскогорье; 3) Анды;
④ Амазонская низменность.

7. Как называются формы рельефа, создаваемые при помощи ветра:

- 1) моренные; ② карстовые; 3) эоловые; 4) водноэрозионные.

8. В каком из климатических поясов наблюдается значительный летний пик осадков:

- 1) тропический; ② экваториальный; ③ субтропический; ④ субэкваториальный.

9. Выберите вариант ответа, в котором указаны самые сухие места на Земле:

- ① Сухие долины Антарктиды, пустыня Атакама, Египет;
2) гора Черапунджи, Бразильское плоскогорье, г. Сочи (Россия);
3) Восточно-Европейская равнина, г. Народная (Уральские горы), г. Оймякон (Россия);
4) о. Мадагаскар, Королевство Марокко, западное побережье Австралии.

10. Выберите группу географических объектов, которые наиболее подвержены влиянию тропических циклонов:

- 1) западное побережье Скандинавского п-ва, п-ов Лабрадор, Алеутские о-ва;
2) п-ов Индокитай, Малаккский п-ов, побережья Аргентины, Уругвая и Бразилии;
3) побережье, омываемое морем Амундсена, Земля Королевы Мод, Земля Уилкса;
④ большая часть территорий Канады, о. Гренландия, Чукотский п-ов.

11. Выберите группу стран, расположенных в умеренном климатическом поясе:

- ① Испания, Португалия, Греция; 2) Мавритания, Чад, Эфиопия;
3) Великобритания, Монголия, Чехия; 4) Мексика, Куба, Венесуэла.

12. Укажите вариант ответа, в котором представлены только полезные ископаемые, применяемые как строительные материалы или сырье для их производства:

- 1) торф, каменный уголь, фосфориты, гипс; 2) природный газ, нефть, полевой шпат;
3) калийные соли, бокситы, сера, нефелины; ④ гранит, мрамор, песок, глина.

13. Выберите вариант ответа, в котором верно указано соответствие «Полуостров – государство, на котором оно находится»:

- 1) п-ов Индокитай – Вьетнам; 2) п-ов Лабрадор – Мексика;
③ п-ов Сомали – Мавритания; 4) Малаккский п-ов – Филиппины.

14. Укажите вариант ответа, в котором правильно указано соответствие «столицы стран мира – материк»:

- 1) Луанда, Найроби, Нуакшот – Северная Америка;
② Каракас, Джорджтаун, Асунсьон – Южная Америка;
3) Тирана, Улан-Батор, Бишкек – Африка; 4) Манагуа, Тегусигальпа, Панама – Евразия.

15. Выберите вариант ответа, в котором указано государство с наименьшей плотностью населения: ① Намибия; 2) Эфиопия; 3) Республика Корея; 4) Швейцария.

16. Укажите верное соотношение «Пустыня – материк»:

- ① пустыня Виктория – Северная Америка; 2) пустыня Атакама – Африка;
3) пустыня Гоби – Евразия; 4) пустыня Калахари – Южная Америка.

17. Выберите **неправильное** утверждение:

- 1) Красное море омывает северо-восточное побережье Африки и юго-западное побережье Аравийского полуострова;
2) Атласские горы расположены на северо-западе Африки;
3) Аденский залив омывает берега государства Сомали;
④ чтобы попасть по суше от побережья Средиземного моря к мысу Доброй Надежды необходимо двигаться на север.

18. Укажите правильное сочетание «Исследователь – географический регион, в котором работал»:

- ① Д. Ливингстон – Африка; 2) Д. Кук – п-ов Аляска;
3) Пржевальский – Канадский Арктический архипелаг;
4) М.П. Лазарев, Ф.Ф. Беллинсгаузен – Средиземное море.

19. Выберите правильное утверждение, говорящее о распространении природной зоны в конкретном географическом объекте:

- 1) тропические пустыни – Среднесибирское плоскогорье;
- 2) влажные экваториальные леса – побережье Гвинейского залива;
- 3) тундра и лесотундра – побережье Мексиканского залива;
- 4) саванны и редколесья – побережье Средиземного моря.

20. Выберите правильное утверждение «Океаническое течение – океан»:

- 1) Гольфстрим – Индийский; 2) Фолклендское – Северный Ледовитый;
- 3) Куроисио – Тихий; 4) Перуанское – Атлантический.

КОЛИЧЕСТВО БАЛЛОВ ЗА ТЕСТОВЫЙ РАУНД – 20

ДЛЯ УЧАСТНИКОВ

ДЛЯ УЧАСТНИКОВ

**ВСЕРОССИЙСКАЯ ОЛИМПИАДА ШКОЛЬНИКОВ 2020-2021 УЧ. Г.
МУНИЦИПАЛЬНЫЙ ЭТАП**

География

7 класс

Задания

II РАУНД (АНАЛИТИЧЕСКИЙ)

На II (аналитический) раунд отводится **120 минут**.

При ответе на задания запрещено пользоваться школьными и прочими атласами, справочными материалами, а также учебниками, мобильными телефонами, карманными компьютерами! Желаем успеха!

Задание 1. «Картография».

Вашему вниманию представляется фрагмент топографической карты участка местности. Необходимо его изучить и ответить на ряд вопросов. Результаты своего картографического исследования необходимо оформить в предложенной таблице.

№	Вопрос	Ответ
1.	Какие объекты антропогенного рельефа обозначены цифрой 1?	<i>овраг</i>
2.	Какой вид минерального сырья добывается на объекте под номером 2? Как называется этот объект?	Сырьё: <i>шина</i> . Объект: <i>карьер</i> .
3.	Какой гидрографический объект расположен под номером 3? На какой абсолютной высоте находится этот объект?	Объект: _____. Высота: <i>144,3</i> м.
4.	Какая часть участка местности наиболее заболочена (указать сторону горизонта)?	<i>СЕВЕР</i>
5.	Какая максимальная высота фиксируется на предложенном участке местности?	<i>159,7</i> м
6.	В каком направлении и по какому азимуту необходимо двигаться, чтобы попасть из совхоза Беличи в город Снов (для точности измерения примите за точки отсчета примерные геометрические центры объектов)?	Направление: <i>ЮВ</i> . Азимут: <i>195°</i> .
7.	Какие объекты обозначены стрелками на карте под цифрой 4? Какова глубина этих объектов?	Объект: <i>тоннель</i> . Глубина: <i>148,1</i> м.
8.	Разъедутся ли два грузовых автомобиля, каждый из которых имеет ширину 3,5 м, следующие из совхоза Беличи по проезжей части шоссе, идущему в восточном направлении? Свой ответ обоснуйте.	<i>да</i> Обоснование: <i>т.к. $D = \frac{15}{10}$</i>
9.	Какие хозяйственные объекты можно увидеть на карте в городе Снов?	

№	Вопрос	Ответ
10.	Какой из склонов – под цифрой 5 или под цифрой 6 – будет круче?	Под цифрой <u>5</u> .
11.	В каком из лесов древесина будет более зрелая (толщина стволов больше) – под цифрой 7 или 8?	Под цифрой <u>8</u> .
12.	В каком из лесов можно добывать хвойную древесину (лес под цифрой 7 или 8)?	Под цифрой <u>8</u> .
13.	По какой антропогенной форме рельефа (созданной человеком) проходят железные дороги на представленном плане местности?	<u>по каналу / мосту</u>
14.	К какой природной зоне относится данный участок местности?	<u>в лесотепл</u>

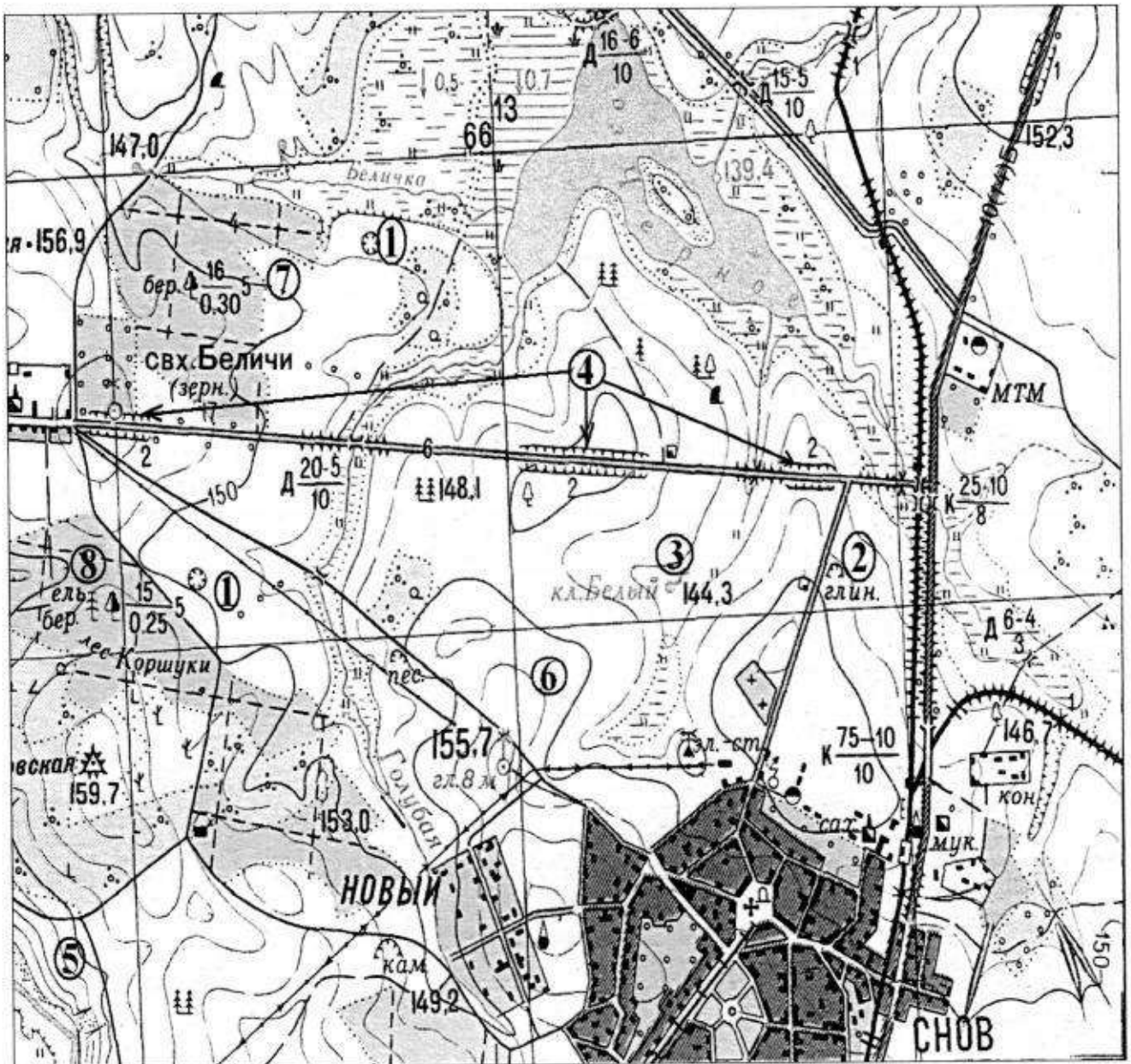


Рис. 1. Участок местности для задания 1

КОЛИЧЕСТВО БАЛЛОВ – 15

Задание 2. «Озера России и мира».

1. На карте, представленной на рисунке 2, цифрами отмечены некоторые крупнейшие и известные озера мира. Вам предстоит вспомнить названия этих озер и вписать их названия в предложенную ниже таблицу 1.

В качестве так любимыми Вами подсказок предоставляется список озер в алфавитном порядке, из которого Вам и предстоит выбрать названия озер, изображенных на карте: *Аральское море, Байкал, Большое Медвежье, Большое Невольничье, Верхнее, Виктория, Виннипег, Гурон, Каспийское море, Маракайбо, Мертвое море, Мичиган, Ньяса, Онтарио, Танганьика, Титикака, Чад, Эйр, Эри*. Вы можете потренироваться и подписать эти озера на представленной Вам карте, но проверяться будут только названия в таблице 1!

2. В таблице 2 представлены некоторые свойства и характеристики озер и их групп. Внимательно изучите их и впишите названия озер, особенности, соответствующие этим характеристикам или озерам, названия озер.

Таблица 1

№ озера на карте	Название	№ озера на карте	Название
1	<i>Озеро Танганьика</i>	11	<i>Виктория</i>
2	<i>Озеро Большое Медвежье</i>	12	<i>Ньяса</i>
3	<i>Верхнее</i>	13	<i>Титикака</i>
4	<i>Гурон</i>	14	<i>Чад</i>
5	<i>Эри</i>	15	<i>Каспийское море</i>
6	<i>Виннипег</i>	16	<i>Мертвое море</i>
7	<i>Эйр</i>	17	<i>Мертвое море</i> <i>Аральское море</i>
8	<i>Мичиган</i>	18	<i>Байкал</i>
9	<i>Онтарио</i>	19	<i>Озеро Эри</i> <i>Озеро Большое Медвежье</i>
10	<i>Танганьика</i> <i>Маракайбо</i>		

Таблица 2

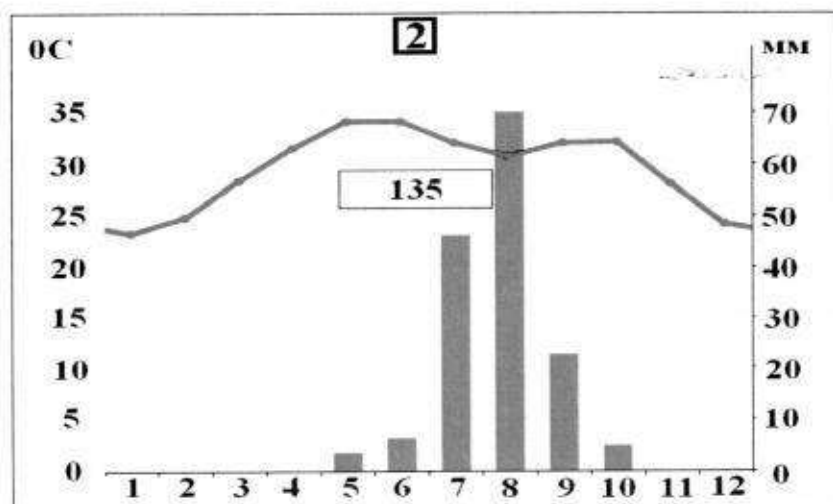
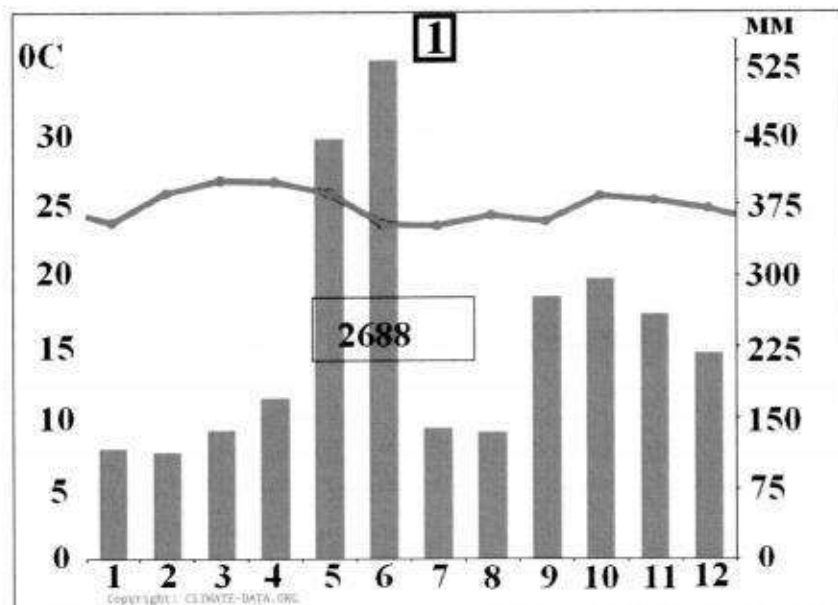
№	Характеристика озер или их групп	Ваш ответ
1.	Как называется группа озер, отмеченных цифрами 3, 4, 5, 6, 7?	<i>Великие озера</i>
2.	Между какими странами проходит государственная граница по озерам группы 3, 4, 5, 6, 7?	1. <i>США</i> 2. <i>Канада</i>
3.	В этом море-озере отмечен один из самых высоких показателей солености в мире (достигает 350‰)	
4.	На территории каких трех стран располагается озеро, обозначенное числом 16?	1. <i>Египет</i> 2. <i>Кувейт</i> 3. <i>Израиль</i>
5.	Какое из указанных озер является самым глубоким озером мира. Напишите его название.	<i>Байкал</i>
6.	Какая особенность гидрологического режима характерна для озер, обозначенных числами 14 и 19?	
7.	Каким по происхождению является озеро под цифрой 9?	<i>Искусственное</i>

№	Характеристика озер или их групп	Ваш ответ
8.	Какое из озер имеет выход к территории таких стран как Россия, Казахстан, Туркменистан, Иран, Азербайджан?	<i>Каспийское море</i>
9.	Как называется море-озеро, от акватории которого практически ничего не осталось (исчезающее озеро)?	<i>Мертвое море</i>
10.	Озеро, название которого переводится с языка индейцев как «свинцовая гора».	<i>Матлааньика</i>
11.	Каково происхождение группы озер 3, 4, 5, 6, 7?	
12.	Какое озеро названо в честь королевы Великобритании (XIX в.)?	<i>л. Виктория</i>

КОЛИЧЕСТВО БАЛЛОВ – 25

Задание 3. «Климатическая прогулка».

1. Вам представлены на рассмотрение три диаграммы различных типов и подтипов климата Африки (1, 2 и 3). Внимательно изучите их и впишите номера диаграмм в соответствующие этим типам климата квадраты на карте Африки (рис. 3).



Шифр

Крупнейшие озёра

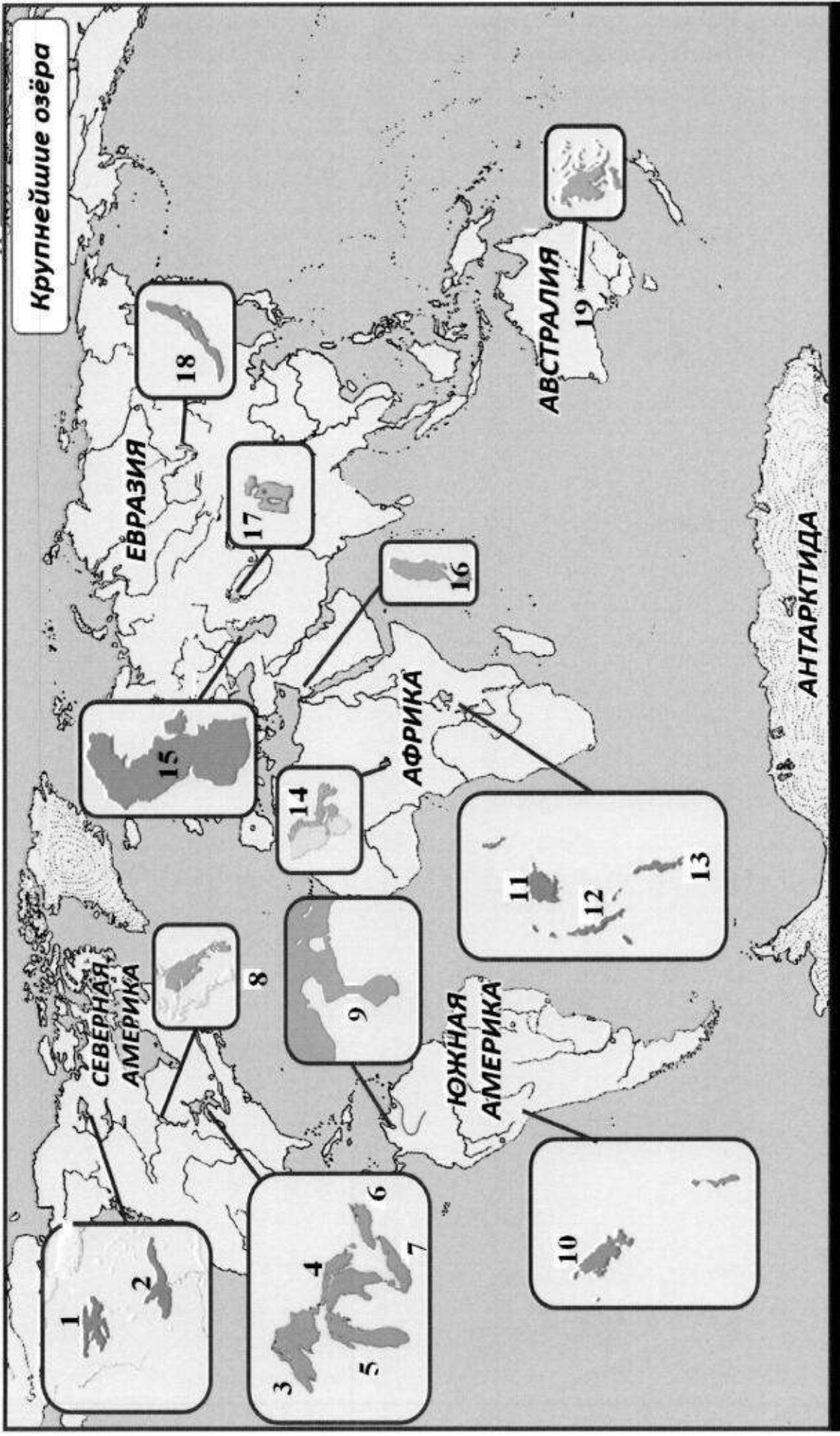
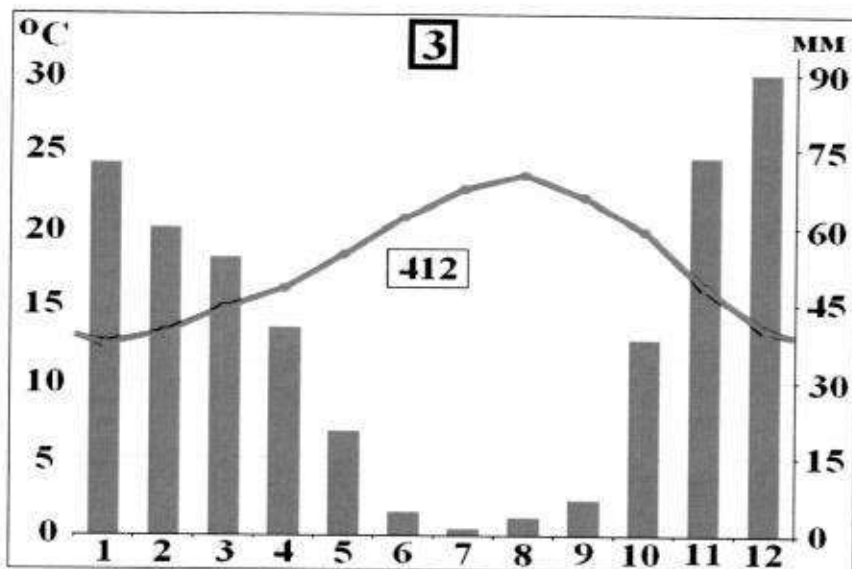


Рис. 2. Крупнейшие озёра мира



2. Проведя исследование климатограмм, заполните таблицу 3.

Таблица 3

№ климатограммы	Определение параметров климата	Вывод о типе/подтипе климата
1	1. Годовое количество осадков: <u>2688</u> мм; 2. Температура самого теплого месяца: <u>35</u> °C; 3. Температура самого холодного месяца: <u>8</u> °C; 4. Годовая амплитуда температуры: <u>27</u> °C	Экваториальный / субэкваториальный
2	1. Годовое количество осадков: <u>135</u> мм; 2. Температура самого теплого месяца(ев): <u>34</u> °C; 3. Температура самого холодного месяца: <u>23</u> °C; 4. Годовая амплитуда температуры: <u>11</u> °C	Тропический / субтропический
3	1. Годовое количество осадков: <u>412</u> мм; 2. Температура самого теплого месяца(ев): <u>23</u> °C; 3. Температура самого холодного месяца: <u>13</u> °C; 4. Годовая амплитуда температуры: <u>10</u> °C; 5. Месяц с максимальным количеством осадков: <u>Август Декабрь</u> ; 6. Месяц с минимальным количеством осадков: <u>Январь Июль</u> .	Умеренный / Средиземноморский



Рис. 3. Африка

3. Ответьте на вопросы, связанные с формированием некоторых типов климата на изучаемой территории. Свои выводы запишите в таблицу 4 в соответствующие ячейки.

Таблица 4

№	Вопрос	Ответ
1.	Объясните, с чем связано различие значений температур и количества выпадаемых осадков в теплый и холодный период времени?	Различия связаны с влиянием угла падения солнечных лучей, а т.е. зимой вращается вокруг солнца, то угол падения на различном угле и в разное время (года). И тогда ветров.

№	Вопрос	Ответ
2.	С чем связано большое и постоянное по месяцам количество осадков в типе, климата, изображенном на диаграмме под номером 1?	С тем, что в меся, изображенная на диаграмме 1 - низкое давление и оно постоянно около экватора, (много, много осадков)
3.	Как можно оценить суточные амплитуды температуры воздуха климата, представленного на диаграмме 2? С чем связаны такие значения суточных амплитуд?	Чтобы оценить суточные амплитуды температуры, надо из самой высокой высокой выбрать самую низкую низкую. Амплитуда = 11°C (не очень много). С тем, что в пустыне (2) всегда жарко.
4.	На климат каких территорий Африки оказывают значительное влияние холодные океанические течения? Назовите эти течения. В чем проявляется их влияние на климат?	Территории: 1. _____; 2. _____; 3. _____. Течения: 1. _____; 2. _____; 3. _____. Влияние:
5.	Назовите ветры, которые дуют в Африке из тропических широт в экваториальные и имеют северо-восточное и юго-восточное направление (в зависимости от полушария).	



КОЛИЧЕСТВО БАЛЛОВ – 25


Задание 4. «Виртуальная прогулка по странам».

Вам предстоит виртуальная прогулка по некоторым странам мира. В таблице 5 представлены описания или фото-миниатюры особенностей или достопримечательностей некоторых стран мира. Вам необходимо ознакомиться с этими особенностями на миниатюрах и ответить на вопросы.

Таблица 5

№	Особенности и миниатюры	Вопросы
1.	<p>По ряду представленных фотографий определите, о какой стране идет речь.</p> 	<p>1. Название достопримечательности: <u>Бундесбургский дворец</u>.</p> <p>2. Страна: <u>Англия</u>.</p> <p>3. Столица: <u>Лондон</u>.</p> <p>4. Река, омывающая достопримечательность: <u>Темза</u>.</p> <p>5. Название моста на 2 рисунке: <u>Королевский мост</u>.</p> <p>6. Как называются проливы между островами, на котором находится страна, и основной территорией Европейского континента: 1) _____; 2) _____.</p>
2.	<p>Какая страна изображена на фотографии-миниатюре?</p> 	<p>1. Страна: <u>Япония</u>.</p> <p>2. Столица этой страны: <u>Токио</u>.</p> <p>3. Название священной горы (вулкана) этой страны: <u>Фудзияма</u>.</p> <p>4. Название большого количества островов, расположенных на небольшом расстоянии друг от друга (характерно для этой страны): <u>Архипелаг</u>.</p> <p>5. Цветок, воспеваемые в культуре этой страны и связанный со многими традициями: <u>Ханэ Сакура</u>.</p> <p>6. Популярный ядовитый рыбный деликатес страны: <u>Фуку</u>.</p> <p>7. Формальный глава этой страны: <u>Император</u>.</p> <p>8. Традиционная одежда этой страны: <u>Кимоно</u>.</p> <p>9. Традиционный вид борьбы в стране: <u>Сумо</u>.</p>

№	Особенности и миниатюры	Вопросы
		
3.		<p>1. Эта страна находится на полуострове, расположенном между Аравийским морем и Бенгальским заливом. Название полуострова: <u>Индостан</u>.</p> <p>2. Название страны: <u>Индия</u>.</p> <p>3. Столица этой страны: <u>Нью-Дели</u>.</p> <p>4. Священное животное в этой стране: <u>Корова</u>.</p> <p>5. Главная административно-территориальная единица страны: <u>Штат</u>.</p> <p>6. Известный мавзолей-мечеть, расположенный в этой стране: <u>Таж-Махал</u>.</p> <p>7. Как называют жителей этой страны, приверженцев индуизма: <u>индусы</u>.</p> <p>8. Как называется островное государство, расположенное к югу от полуострова, на котором расположена исследуемая страна (остров имеет такое же название, как и страна): <u>Индия</u>.</p>
4.	<p>Эта страна находится на севере и западе самого большого полуострова Европы. Флаг этой страны – синий крест на красном фоне.</p> 	<p>1. Название самого большого полуострова Европы: <u>Скандинавский п-ов</u>.</p> <p>2. Название страны: <u>Норвегия</u>.</p> <p>3. Столица этой страны: <u>Осло</u>.</p> <p>4. Самый большой северный сосед этой страны (страна): <u>Швеция</u>.</p> <p>5. Северный народ, живущий издревле на территории этой страны и упомянутом полуострове: <u>Викинги</u>.</p> <p>6. Как называется корабль этого народа: <u>драккер</u>.</p>

№	Особенности и миниатюры	Вопросы
		

КОЛИЧЕСТВО БАЛЛОВ – 15

КОЛИЧЕСТВО БАЛЛОВ ЗА АНАЛИТИЧЕСКИЙ РАУНД – 80

ОБЩЕЕ КОЛИЧЕСТВО БАЛЛОВ – 100