

БЛАНК РЕГИСТРАЦИИ

Фамилия, Имя, Отчество Роменко Никита Александрович

Класс 7 А

Образовательная организация МБОУ „Классическая школа“ г. Гурьевска

Название предмета География

№ аудитории 41

Дата проведения олимпиады 18.11.2020

БЛАНК РЕГИСТРАЦИИ

Фамилия, Имя, Отчество Роменко Никита Александрович

Класс 7А

Образовательная организация МБОУ "Классическая школа" г. Гурьевска

Название предмета География

№ аудитории 41

Дата проведения олимпиады 18.11.2020.

ДЛЯ УЧАСТНИКОВ

ВСЕРОССИЙСКАЯ ОЛИМПИАДА ШКОЛЬНИКОВ 2020-2021 УЧ. Г.
МУНИЦИПАЛЬНЫЙ ЭТАП

География

7 класс

Задания

Общее время выполнения работы – **180 минут**.

На выполнение заданий I (тестового) раунда отводится **60 минут**. На II (аналитический) раунд отводится **120 минут**.

При ответе на задания запрещено пользоваться школьными и прочими атласами, справочными материалами, а также учебниками, мобильными телефонами, карманными компьютерами! Желаем успеха!

I РАУНД (ТЕСТОВЫЙ)

Ответьте на поставленные вопросы, выбрав **один** правильный вариант ответа. При ответе на вопросы будьте очень внимательны, так как некоторые вопросы требуют определить неверный вариант или имеют формулировку с отрицанием.

1. Выберите правильное сочетание «горная система – высочайшая точка»:

- 1) Альпы – г. Аконкагуа (6960 м); 2) Алтай – г. Белуха (4506 м);
3) Большой Кавказ – Пик Коммунизма (7495 м); 4) Альпы – Эльбрус (5642 м).

2. Выберите вариант ответа, в котором представлены только страны южного полушария:

- 1) Алжир, Непал, Норвегия, Марокко; 2) Мексика, Дания, Швеция, Вьетнам;
 3) Танзания, Перу, Намибия, Новая Зеландия; 4) Испания, Франция, Австралия, Индия.

3. Выберите правильное утверждение о проливах Земли:

- 1) Мозамбикский пролив расположен между материком Африка и островом Мадагаскар;
2) Пролив Дрейка расположен между Антарктидой и Австралией;
3) Берингов пролив расположен между островом Гренландия и Северной Америкой;
4) Баб-Эль-Мандебский пролив расположен между континентами Европа и Африка.

4. Выберите из предложенного списка морей самое соленое:

- 1) Охотское; 2) Аравийское; 3) Южно-Китайское; 4) Балтийское.

5. Выберите вариант ответа, в котом представлены объекты рельефа, расположенные **не** в Евразии:

- 1) г. Аконкагуа, г. Косцюшко, г. Килиманджаро, влк. Фудзияма;
2) Великая Китайская равнина, Кордильеры, Скандинавские горы, Альпы;
 3) Атласские горы, Большой Водораздельный хребет, Анды, Капские горы;
4) Карпаты, Апеннинские горы, Алтай, Уральские горы.

6. В каком из указанных районов не может быть действующих вулканов:

- 1) п-ов Камчатка; 2) Восточно-Африканское плоскогорье; 3) Анды;
 4) Амазонская низменность.

7. Как называются формы рельефа, создаваемые при помощи ветра:

- 1) моренные; 2) карстовые; 3) эоловые; 4) водноэрозионные.

8. В каком из климатических поясов наблюдается значительный летний пик осадков:

- 1) тропический; 2) экваториальный; 3) субтропический; 4) субэкваториальный.

9. Выберите вариант ответа, в котором указаны самые сухие места на Земле:

- 1) Сухие долины Антарктиды, пустыня Атакама, Египет;
- 2) гора Черапунджи, Бразильское плоскогорье, г. Сочи (Россия);
- 3) Восточно-Европейская равнина, г. Народная (Уральские горы), г. Оймякон (Россия);
- 4) о. Мадагаскар, Королевство Марокко, западное побережье Австралии.

10. Выберите группу географических объектов, которые наиболее подвержены влиянию тропических циклонов:

- 1) западное побережье Скандинавского п-ва, п-ов Лабрадор, Алеутские о-ва;
- 2) п-ов Индокитай, Малаккский п-ов, побережья Аргентины, Уругвая и Бразилии;
- 3) побережье, омываемое морем Амундсена, Земля Королевы Мод, Земля Уилкса;
- 4) большая часть территории Канады, о. Гренландия, Чукотский п-ов.

11. Выберите группу стран, расположенных в умеренном климатическом поясе:

- 1) Испания, Португалия, Греция;
- 2) Мавритания, Чад, Эфиопия;
- 3) Великобритания, Монголия, Чехия;
- 4) Мексика, Куба, Венесуэла.

12. Укажите вариант ответа, в котором представлены только полезные ископаемые, применяемые как строительные материалы или сырье для их производства:

- 1) торф, каменный уголь, фосфориты, гипс;
- 2) природный газ, нефть, полевой шпат;
- 3) калийные соли, бокситы, сера, нефелины;
- 4) гранит, мрамор, песок, глина.

13. Выберите вариант ответа, в котором верно указано соответствие «Полуостров – государство, на котором оно находится»:

- 1) п-ов Индокитай – Вьетнам;
- 2) п-ов Лабрадор – Мексика;
- 3) п-ов Сомали – Мавритания;
- 4) Малаккский п-ов – Филиппины.

14. Укажите вариант ответа, в котором правильно указано соответствие «столицы стран мира – материк»:

- 1) Луанда, Найроби, Нуакшот – Северная Америка;
- 2) Каракас, Джорджтаун, Асунсьон – Южная Америка;
- 3) Тирана, Улан-Батор, Бишкек – Африка;
- 4) Манагуа, Тегусигальпа, Панама – Евразия.

15. Выберите вариант ответа, в котором указано государство с наименьшей плотностью населения: 1) Намибия; 2) Эфиопия; 3) Республика Корея; 4) Швейцария.

16. Укажите верное соотношение «Пустыня – материк»:

- 1) пустыня Виктория – Северная Америка;
- 2) пустыня Атакама – Африка;
- 3) пустыня Гоби – Евразия;
- 4) пустыня Калахари – Южная Америка.

17. Выберите неправильное утверждение:

- 1) Красное море омывает северо-восточное побережье Африки и юго-западное побережье Аравийского полуострова;
- 2) Атласские горы расположены на северо-западе Африки;
- 3) Аденский залив омывает берега государства Сомали;
- 4) чтобы попасть по суше от побережья Средиземного моря к мысу Доброй Надежды необходимо двигаться на север.

18. Укажите правильное сочетание «Исследователь – географический регион, в котором работал»:

- 1) Д. Ливингстон – Африка;
- 2) Д. Кук – п-ов Аляска;
- 3) Пржевальский – Канадский Арктический архипелаг;
- 4) М.П. Лазарев, Ф.Ф. Беллинсгаузен – Средиземное море.

19. Выберите правильное утверждение, говорящее о распространении природной зоны в конкретном географическом объекте:

- 1) тропические пустыни – Среднесибирское плоскогорье;
- 2) влажные экваториальные леса – побережье Гвинейского залива;
- 3) тундра и лесотундра – побережье Мексиканского залива;
- 4) саванны и редколесья – побережье Средиземного моря.

20. Выберите правильное утверждение «Океаническое течение – океан»:

- 1) Гольфстрим – Индийский; 2) Фолклендское – Северный Ледовитый;
- 3) Курошио – Тихий; 4) Перуанское – Атлантический.

3



КОЛИЧЕСТВО БАЛЛОВ ЗА ТЕСТОВЫЙ РАУНД – 20

**ВСЕРОССИЙСКАЯ ОЛИМПИАДА ШКОЛЬНИКОВ 2020-2021 УЧ. Г.
МУНИЦИПАЛЬНЫЙ ЭТАП**

География

7 класс

Задания

II РАУНД (АНАЛИТИЧЕСКИЙ)

На II (аналитический) раунд отводится **120 минут**.

При ответе на задания запрещено пользоваться школьными и прочими атласами, справочными материалами, а также учебниками, мобильными телефонами, карманными компьютерами! Желаем успеха!

Задание 1. «Картография».

Вашему вниманию представляется фрагмент топографической карты участка местности. Необходимо его изучить и ответить на ряд вопросов. Результаты своего картографического исследования необходимо оформить в предложенной таблице.

| № | Вопрос | Ответ |
|-----|--|---|
| 1. | Какие объекты антропогенного рельефа обозначены цифрой 1? | <i>Талик</i> |
| 2. | Какой вид минерального сырья добывается на объекте под номером 2? Как называется этот объект? | Сырье: <i>глина</i> . Объект: <i>карьер</i> . |
| 3. | Какой гидрографический объект расположен под номером 3? На какой абсолютной высоте находится этот объект? | Объект: <i>родник</i> . Высота: <i>144,3</i> м. |
| 4. | Какая часть участка местности наиболее заболочена (указать сторону горизонта)? | <i>Северная</i> |
| 5. | Какая максимальная высота фиксируется на предложенном участке местности? | <i>156,9</i> м |
| 6. | В каком направлении и по какому азимуту необходимо двигаться, чтобы попасть из совхоза Беличи в город Снов (для точности измерения примите за точки отсчета примерные геометрические центры объектов)? | Направление: <i>юго-восток</i> . Азимут: <i>135°</i> . |
| 7. | Какие объекты обозначены стрелками на карте под цифрой 4? Какова глубина этих объектов? | Объект: <i>обрубки</i> . Глубина: <i>2</i> м. |
| 8. | Разъедутся ли два грузовых автомобиля, каждый из которых имеет ширину 3,5 м, следующие из совхоза Беличи по проезжей части шоссе, идущему в восточном направлении? Свой ответ обоснуйте. | <i>Нет.</i> Обоснование: <i>ширина дороги - 6 м, а для того, чтобы они разъездились нужно хотя бы 7 м.</i> |
| 9. | Какие хозяйственные объекты можно увидеть на карте в городе Снов? | <i>Клубы</i> |
| 10. | Какой из склонов – под цифрой 5 или под цифрой 6 – будет круче? | Под цифрой <i>5</i> . |

| № | Вопрос | Ответ |
|-----|--|-----------------------|
| 11. | В каком из лесов древесина будет более зрелая (толщина стволов больше) – под цифрой 7 или 8? | Под цифрой <u>7</u> . |
| 12. | В каком из лесов можно добывать хвойную древесину (лес под цифрой 7 или 8)? | Под цифрой <u>8</u> . |
| 13. | По какой антропогенной форме рельефа (созданной человеком) проходят железные дороги на представленном плане местности? | <u>Карьер</u> |
| 14. | К какой природной зоне относится данный участок местности? | <u>Смешанные леса</u> |

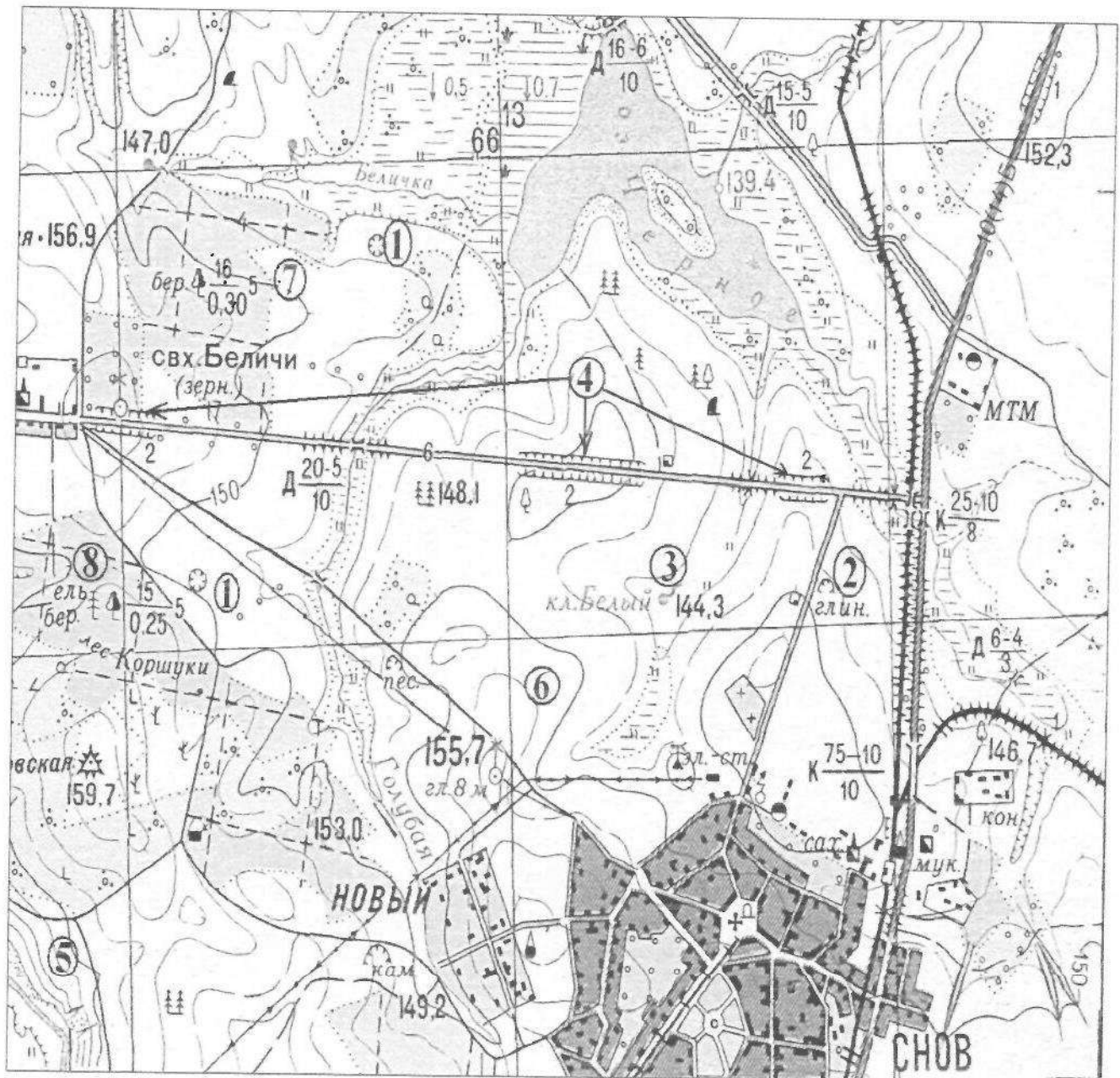


Рис. 1. Участок местности для задания 1

КОЛИЧЕСТВО БАЛЛОВ – 15

Задание 2. «Озера России и мира».

1. На карте, представленной на рисунке 2, цифрами отмечены некоторые крупнейшие и известные озера мира. Вам предстоит вспомнить названия этих озер и вписать их названия в предложенную ниже таблицу 1.

В качестве так любимыми Вами подсказок предоставляется список озер в алфавитном порядке, из которого Вам и предстоит выбрать названия озер, изображенных на карте: *Аральское море, Байкал, Большое Медвежье, Большое Невольничье, Верхнее, Виктория, Виннипег, Гурон, Каспийское море, Маракайбо, Мертвое море, Мичиган, Ньяса, Онтарио, Танганьика, Титикака, Чад, Эйр, Эри*. Вы можете потренироваться и подписать эти озера на представленной Вам карте, но проверяться будут только названия в таблице 1!

2. В таблице 2 представлены некоторые свойства и характеристики озер и их групп. Внимательно изучите их и впишите названия озер, особенности, соответствующие этим характеристикам или озерам, названия озер.

Таблица 1

| № озера на карте | Название | № озера на карте | Название |
|------------------|----------------------------|------------------|---|
| 1 | <i>Онтарио</i> | 11 | <i>Чад</i> |
| 2 | <i>Большое медвежье</i> | 12 | <i>оз. Ньяса</i> |
| 3 | <i>Верхнее</i> | 13 | <i>Эйр</i> |
| 4 | <i>Гурон</i> | 14 | <i>Виктория</i> |
| 5 | <i>Виннипег</i> | 15 | <i>Аральское море</i> <i>Мертвое море</i> |
| 6 | <i>Мичиган</i> | 16 | <i>Большое медвежье</i> |
| 7 | <i>Большое Невольничье</i> | 17 | <i>Танганьика</i> <i>Аральское море</i> |
| 8 | <i>Танганьика</i> | 18 | <i>Байкал</i> |
| 9 | <i>Маракайбо</i> | 19 | <i>Эри</i> |
| 10 | <i>Титикака</i> | | |

Таблица 2

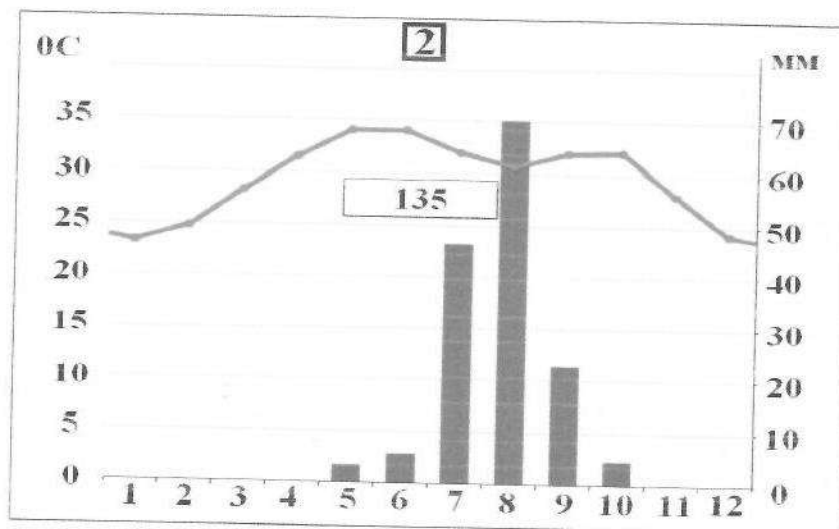
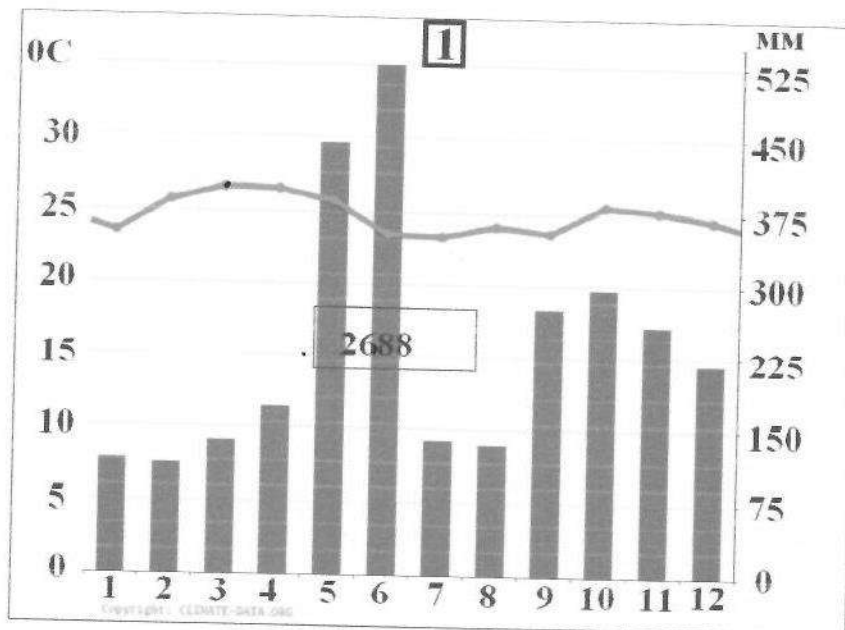
| № | Характеристика озер или их групп | Ваш ответ |
|----|--|--|
| 1. | Как называется группа озер, отмеченных цифрами 3, 4, 5, 6, 7? | <i>Великие озера</i> |
| 2. | Между какими странами проходит государственная граница по озерам группы 3, 4, 5, 6, 7? | 1. <i>Канада</i> 2. <i>С Ш С</i> |
| 3. | В этом море-озере отмечен один из самых высоких показателей солености в мире (достигает 350‰) | <i>Мертвое море</i> |
| 4. | На территории каких трех стран располагается озеро, обозначенное числом 16? | 1. <i>Арабские эмираты</i> 2. <i>Бахрейн</i> 3. <i>Саудовская Аравия</i> |
| 5. | Какое из указанных озер является самым глубоким озером мира. Напишите его название. | |
| 6. | Какая особенность гидрологического режима характерна для озер, обозначенных числами 14 и 19? | |
| 7. | Каким по происхождению является озеро под цифрой 9? | <i>Тектоническое</i> |
| 8. | Какое из озер имеет выход к территории таких стран как Россия, Казахстан, Туркменистан, Иран, Азербайджан? | <i>Аральское море</i> |

| № | Характеристика озер или их групп | Ваш ответ |
|-----|---|--------------------|
| 9. | Как называется море-озеро, от акватории которого практически ничего не осталось (исчезающее озеро)? | <i>Аральское</i> |
| 10. | Озеро, название которого переводится с языка индейцев как «свинцовая гора». | <i>Маракитбо</i> |
| 11. | Каково происхождение группы озер 3, 4, 5, 6, 7? | <i>ледниковые.</i> |
| 12. | Какое озеро названо в честь королевы Великобритании (XIX в.)? | <i>Виктория</i> |

КОЛИЧЕСТВО БАЛЛОВ – 25

Задание 3. «Климатическая прогулка».

1. Вам представлены на рассмотрение три диаграммы различных типов и подтипов климата Африки (1, 2 и 3). Внимательно изучите их и впишите номера диаграмм в соответствующие этим типам климата квадраты на карте Африки (рис. 3).



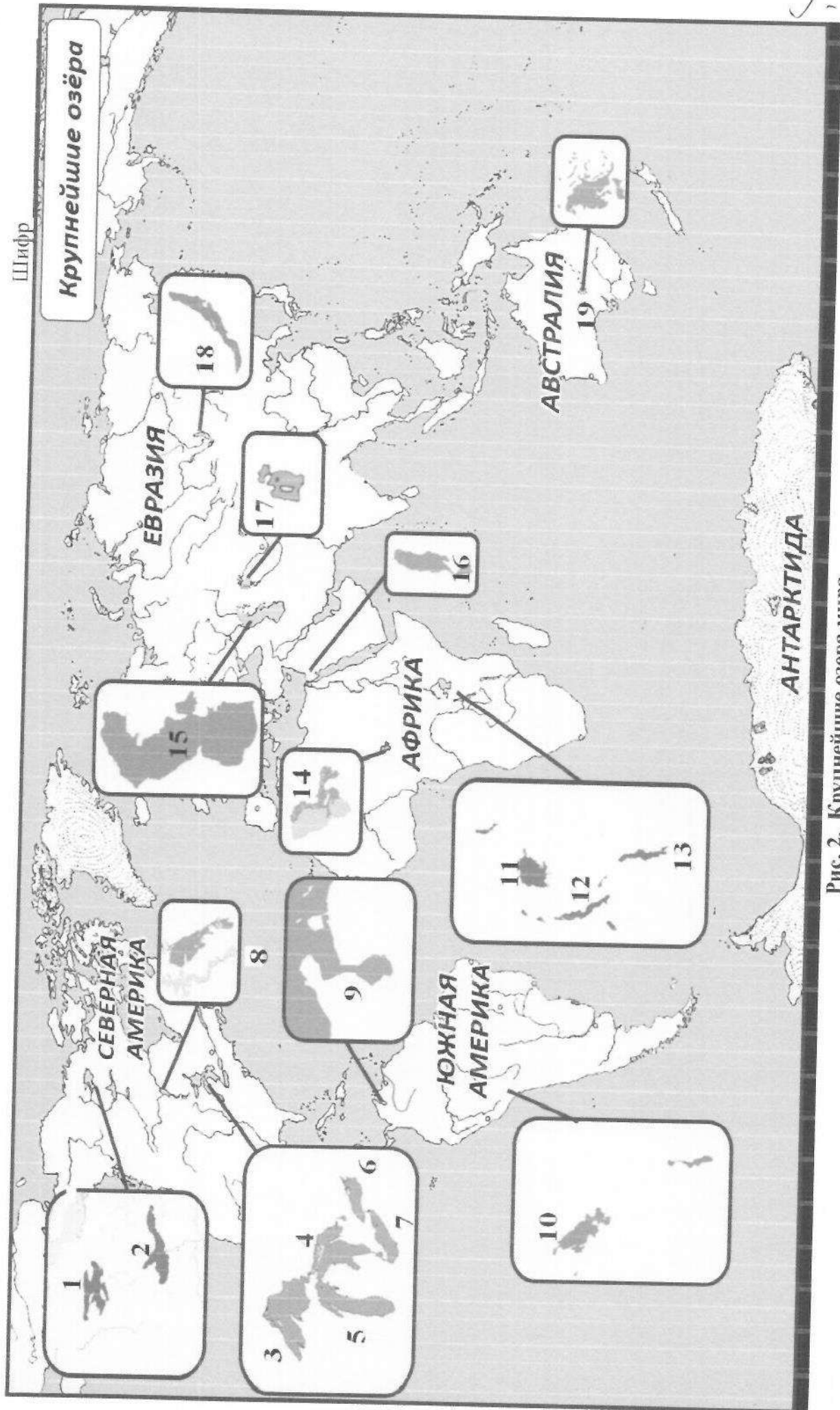
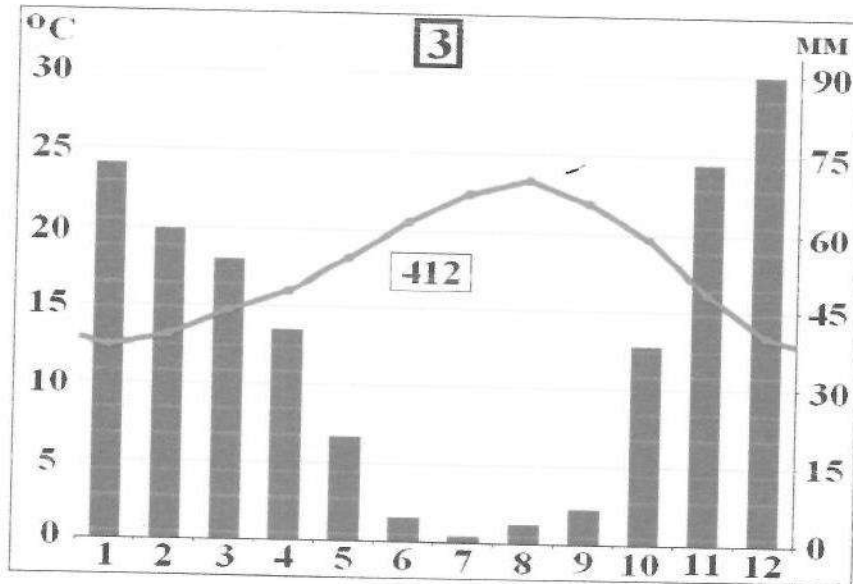


Рис. 2. Крупнейшие озера мира



2. Проведя исследование климатограмм, заполните таблицу 3.

Таблица 3

| № климатограммы | Определение параметров климата | Вывод о типе/подтипе климата |
|-----------------|--|--|
| 1 | 1. Годовое количество осадков: <u>2688</u> мм; 2. Температура самого теплого месяца: <u>26</u> °C; 3. Температура самого холодного месяца: <u>23</u> °C; 4. Годовая амплитуда температуры: <u>3</u> °C | Ближе к экватору, много осадков, далеко к океану, квадрат 2. |
| 2 | 1. Годовое количество осадков: <u>135</u> мм; 2. Температура самого теплого месяца (ев): <u>34</u> °C; 3. Температура самого холодного месяца: <u>24</u> °C; 4. Годовая амплитуда температуры: <u>10</u> °C | Ближе к экватору, находится в субэкваториальной зоне, квадрат 3. |
| 3 | 1. Годовое количество осадков: <u>435</u> мм; <u>412</u> <u>23</u> 2. Температура самого теплого месяца (ев): <u>34</u> °C; 3. Температура самого холодного месяца: <u>24</u> °C; <u>12</u> 4. Годовая амплитуда температуры: <u>10</u> °C; <u>14</u> 5. Месяц с максимальным количеством осадков: <u>декабрь</u> ; 6. Месяц с минимальным количеством осадков: <u>июль</u> | Находится в экваториальной, за счет большого количества осадков, поэтому расположен в субэкваториальной зоне, квадрат 1. |



Рис. 3. Африка

3. Ответьте на вопросы, связанные с формированием некоторых типов климата на изучаемой территории. Свои выводы запишите в таблицу 4 в соответствующие ячейки.

Таблица 4

| № | Вопрос | Ответ |
|----|---|--|
| 1. | Объясните, с чем связано различие значений температур и количества выпадаемых осадков в теплый и холодный период времени? | От 2 ^{силы} господствующих ветров. Когда они дуют с океана, выпадает больше осадков, когда с территории материка от экватора, становится холоднее. |

| № | Вопрос | Ответ |
|----|---|--|
| 2. | С чем связано большое и постоянное по месяцам количество осадков в типе, климата, изображенном на диаграмме под номером 1? | <i>Это тропическая зона и у нее всегда есть выходящая линия, от которого идет осадки.</i> |
| 3. | Как можно оценить суточные амплитуды температуры воздуха климата, представленного на диаграмме 2? С чем связаны такие значения суточных амплитуд? | |
| 4. | На климат каких территорий Африки оказывают значительное влияние холодные океанические течения? Назовите эти течения. В чем проявляется их влияние на климат? | Территории: 1. <i>Нумбия Канье</i> ; 2. _____ ; 3. _____ ; Течения: 1. _____ ; 2. _____ ; 3. _____ ; Влияние:) |
| 5. | Назовите ветры, которые дуют в Африке из тропических широт в экваториальные и имеют северо-восточное и юго-восточное направление (в зависимости от полушария). | <i>Северо-восточные ветры</i> |

КОЛИЧЕСТВО БАЛЛОВ – 25

Задание 4. «Виртуальная прогулка по странам».

Вам предстоит виртуальная прогулка по некоторым странам мира. В таблице 5 представлены описания или фото-миниатюры особенностей или достопримечательностей некоторых стран мира. Вам необходимо ознакомиться с этими особенностями на миниатюрах и ответить на вопросы.

Таблица 5

| № | Особенности и миниатюры | Вопросы |
|----|---|---|
| 1. | <p>По ряду представленных фотографий определите, о какой стране идет речь.</p>  | <p>1. Название достопримечательности: <u>НМ</u></p> <p>2. Страна: <u>Германия Великобритания</u></p> <p>3. Столица: <u>Берлин Лондон</u></p> <p>4. Река, омывающая достопримечательность: _____</p> <p>5. Название моста на 2 рисунке: _____</p> <p>6. Как называются проливы между островами, на котором находится страна, и основной территорией Европейского континента: 1) _____; 2) _____.</p> |
| 2. | <p>Какая страна изображена на фотографии-миниатюре?</p>  | <p>1. Страна: <u>Япония</u></p> <p>2. Столица этой страны: <u>Токио</u></p> <p>3. Название священной горы (вулкана) этой страны: <u>Фудзияма</u></p> <p>4. Название большого количества островов, расположенных на небольшом расстоянии друг от друга (характерно для этой страны): <u>архипелаг</u></p> <p>5. Цветок, воспеваемый в культуре этой страны и связанный со многими традициями: <u>лотос</u></p> <p>6. Популярный ядовитый рыбный деликатес страны: _____</p> <p>7. Формальный глава этой страны: <u>Вице-президент</u></p> <p>8. Традиционная одежда этой страны: _____</p> <p>9. Традиционный вид борьбы в стране: <u>шуо</u>.</p> |

| № | Особенности и миниатюры | Вопросы |
|----|--|---|
| |  | |
| 3. |  | <p>1. Эта страна находится на полуострове, расположенном между Аравийским морем и Бенгальским заливом. Название полуострова: <u>Индостан</u></p> <p>2. Название страны: <u>Индия</u></p> <p>3. Столица этой страны: _____</p> <p>4. Священное животное в этой стране: <u>Корова</u></p> <p>5. Главная административно-территориальная единица страны: _____</p> <p>6. Известный мавзолей-мечеть, расположенный в этой стране: _____</p> <p>7. Как называют жителей этой страны, приверженцев индуизма: <u>Индусы</u></p> <p>8. Как называется островное государство, расположенное к югу от полуострова, на котором расположена исследуемая страна (остров имеет такое же название, как и страна): _____</p> |
| 4. | <p>Эта страна находится на севере и западе самого большого полуострова Европы. Флаг этой страны – синий крест на красном фоне.</p>  | <p>1. Название самого большого полуострова Европы: <u>Скандинавский</u></p> <p>2. Название страны: <u>Норвегия</u></p> <p>3. Столица этой страны: <u>Осло</u></p> <p>4. Самый большой северный сосед этой страны (страна): <u>Великобритания</u></p> <p>5. Северный народ, живущий издревле на территории этой страны и упомянутом полуострове: <u>скандинавы</u></p> <p>6. Как называется корабль этого народа: _____</p> |

Шифр Т-7-25

| № | Особенности и миниатюры | Вопросы |
|---|---|---------|
| |  | |

КОЛИЧЕСТВО БАЛЛОВ – 15

КОЛИЧЕСТВО БАЛЛОВ ЗА АНАЛИТИЧЕСКИЙ РАУНД – 80

ОБЩЕЕ КОЛИЧЕСТВО БАЛЛОВ – 100