

Шифр Р-8-13

**БЛАНК РЕГИСТРАЦИИ**

Фамилия, Имя, Отчество Шванов Ростислав Дмитриевич

Класс 8, Б"

Образовательная организация МБОУ гимназия г. Турьинска

Название предмета География

№ аудитории 203 А

Дата проведения олимпиады 18.11.20

Шифр П-8-13

**БЛАНК РЕГИСТРАЦИИ**

Фамилия, Имя, Отчество Иванов Денислав Дмитриевич

Класс 8 "Б"

Образовательная организация МБОУ гимназия г. Тульска

Название предмета География

№ аудитории 203 А

Дата проведения олимпиады 18.11.20

**ДЛЯ УЧАСТНИКОВ**

**ВСЕРОССИЙСКАЯ ОЛИМПИАДА ШКОЛЬНИКОВ 2020-2021 УЧ. Г.**  
**МУНИЦИПАЛЬНЫЙ ЭТАП**

*География*

*8 класс*

**Задания**

Общее время выполнения работы – **180 минут**.

На выполнение заданий I (тестового) раунда отводится **60 минут**.

На II (аналитический) раунд отводится **120 минут**.

При ответе на задания запрещено пользоваться школьными и прочими атласами, справочными материалами, а также учебниками, мобильными телефонами, карманными компьютерами! Желаем успехов!

**I РАУНД (ТЕСТОВЫЙ)**

Ответьте на поставленные вопросы, выбрав **один** правильный вариант ответа. При ответе на вопросы будьте очень внимательны, так как некоторые вопросы требуют определить неверный вариант или имеют формулировку с отрицанием.

1. Выберите город России, в котором фиксируются самые теплые зимы:  
1) Калининград; ② Сочи; 3) Южно-Сахалинск; 4) Симферополь.
2. Выберите правильное сочетание «горная система – высочайшая точка»:  
1) Альпы – г. Аконкагуа (6960 м); ② Алтай – г. Белуха (4506 м);  
3) Большой Кавказ – Пик Коммунизма (7495 м); 4) Альпы – Эльбрус (5642 м).
3. Какой из предложенных регионов является лидером по запасам торфа в России:  
1) Ленинградская обл.; 2) Вологодская обл.; ③ Тюменская обл.; 4) Красноярский край.
4. Выберите город России, в котором наблюдается наибольшее число дней с туманами:  
1) Мурманск; ② Санкт-Петербург; 3) Калининград; 4) Южно-Курильск.
5. Выберите физико-географический объект, на котором площадь покровного оледенения наибольшая:  
① архипелаг Земля Франца Иосифа; 2) остров Врангеля; 3) архипелаг Новая Земля;  
4) архипелаг Северная Земля.
6. Укажите вариант ответа, в котором правильно указаны природные зоны России в порядке **возрастания** их площади распространения:  
1) арктические пустыни и тундра – тайга – степь и лесостепь – полупустыня;  
2) полупустыня – арктические пустыни и тундра – степь и лесостепь – тайга;  
③ тайга – степь и лесостепь – арктические пустыни и тундра – полупустыни;  
4) степь и лесостепь – арктические пустыни и тундра – полупустыни – тайга.
7. Выберите из предложенного списка морей самое соленое:  
1) Охотское; ② Аравийское; 3) Южно-Китайское; 4) Балтийское.
8. Выберите вариант ответа, в котором указаны самые сухие места на Земле:  
① Сухие долины Антарктиды, пустыня Атакама, Египет;  
2) гора Черапунджи, Бразильское плоскогорье, г. Сочи (Россия);  
3) Восточно-Европейская равнина, г. Народная (Уральские горы), г. Оймякон (Россия);  
4) о. Мадагаскар, Королевство Марокко, западное побережье Австралии.

9. Укажите вариант ответа, в котором представлены только полезные ископаемые, применяемые как строительные материалы или сырье для их производства:
- 1) торф, каменный уголь, фосфориты, гипс;
  - 2) природный газ, нефть, полевой шпат;
  - 3) калийные соли, бокситы, сера, нефелины;
  - ④ гранит, мрамор, песок, глина.
10. Выберите правильное сочетание «Физико-географический район – месторождение полезных ископаемых»
- 1) Приразломное – Тихий океан;
  - 2) Курская магнитная аномалия – Среднесибирское плоскогорье;
  - 3) Самотлорское – Западно-Сибирская равнина;
  - ④ Кузбасс – Восточно-Европейская равнина.
11. Установите верное соответствие между территорией России и типом озерных котловин:
- 1) Прибайкалье – лиманные;
  - ② Западно-Сибирская равнина – вулканические;
  - 3) Северо-Запад Европейской территории России – ледниковые;
  - 4) Прикаспийская низменность – термокарстовые.
12. В какой из природных зон России будет наблюдаться максимальная продолжительность дня в июле:
- ① арктические пустыни;
  - 2) тайга;
  - 3) лесостепь и степь;
  - 4) полупустыни.
13. Выберите верное соотношение «Особо охраняемая природная территория – физико-географический район (регион России)»:
- ① Верхнетазовский заповедник – горы Восточной Сибири;
  - 2) Заповедник Кивач – Республика Карелия;
  - 3) Заповедник Маньч-Гудило – Западная Сибирь;
  - 4) «Остров Врангеля» – Охотское море.
14. В каком из вариантов ответа указан регион с наиболее благоприятными условиями для жизни населения:
- 1) Дальний Восток;
  - 2) Среднесибирское плоскогорье;
  - ③ Центральная и Юго-Западная часть Восточно-Европейской равнины;
  - 4) Кольский полуостров.
15. Выберите вариант ответа, в котором правильно представлены «соседи» указанных географических объектов:
- ① Белое море – Кольский п-ов, п-ов Канин;
  - 2) пролив Карские Ворота – Черное и Азовское моря;
  - 3) п-ов Камчатка – море Лаптевых и Восточно-Сибирское море;
  - 4) п-ов Таймыр – Чукотское и Японское моря.
16. Укажите реку с **ярко выраженным** летним половодьем:
- 1) Кубань;
  - ② Амур;
  - 3) Обь;
  - 4) Ока.
17. Выберите регион России с резко недостаточным увлажнением:
- 1) Север Восточно-Европейской равнины;
  - 2) полуостров Таймыр;
  - 3) центральная часть Западно-Сибирской равнины;
  - ④ район Прикаспийской низменности.

18. Укажите правильное соотношение «Субъект Российской Федерации – объект рельефа, который там расположен»:

- ①) Приморский край – горы Сихотэ-Алинь; 2) Оренбургская обл. – Прикаспийская низм.;  
3) Республика Карелия – Верхоянский хребет; 4) Мурманская обл. – Тиманский кряж.

19. Выберите территорию с **наименьшими** запасами древесины:

- 1) Амурская обл.; ②) Волгоградская обл.; 3) Вологодская обл.; 4) Московская обл.

20. Выберите регион России с высокой долей черноземных почв:

- 1) Ленинградская обл.; ②) Пермский край; 3) Камчатский край; 4) Воронежская обл.

**КОЛИЧЕСТВО БАЛЛОВ ЗА ТЕСТОВЫЙ РАУНД – 20**

**ДЛЯ УЧАСТНИКОВ**  
**ВСЕРОССИЙСКАЯ ОЛИМПИАДА ШКОЛЬНИКОВ 2020-2021 УЧ. Г.**  
**МУНИЦИПАЛЬНЫЙ ЭТАП**

География

8 класс

**Задания**

**II РАУНД (АНАЛИТИЧЕСКИЙ)**

На II (аналитический) раунд отводится **120 минут**.

При ответе на задания запрещено пользоваться школьными и прочими атласами, справочными материалами, а также учебниками, мобильными телефонами, карманными компьютерами! Желаем успеха!

**Задание 1. «Картография».**


Вашему вниманию представляется фрагмент топографической карты участка местности. Необходимо его изучить и ответить на ряд вопросов. Результаты своего картографического исследования необходимо оформить в предложенной таблице.

№	Вопрос	Ответ
1.	Какие объекты антропогенного рельефа обозначены цифрой 1?	Корнер
2.	Какой вид минерального сырья добывается на объекте под номером 2? Как называется этот объект?	Сырьё: <u>шпала</u> . Объект: <u>обвал</u> .
3.	Какой гидрографический объект расположен под номером 3? На какой абсолютной высоте находится этот объект?	Объект: <u>ручьи</u> . Высота: <u>144,3</u> м.
4.	Какая часть участка местности наиболее заболочена (указать сторону горизонта)?	Северная
5.	Какая максимальная высота фиксируется на предложенном участке местности?	<u>159,7</u> м
6.	В каком направлении и по какому азимуту необходимо двигаться, чтобы попасть из совхоза Беличи в город Снов (для точности измерения примите за точки отсчета примерные геометрические центры объектов)?	Направление: <u>Северо-Запад</u> . Азимут: <u>145</u> .
7.	Какие объекты обозначены стрелками на карте под цифрой 4? Какова глубина этих объектов?	Объект: <u>овраг</u> . Глубина: <u>2</u> м.
8.	Разъедутся ли два грузовых автомобиля, каждый из которых имеет ширину 3,5 м, следующие из совхоза Беличи по проезжей части шоссе, идущему в восточном направлении? Свой ответ обоснуйте.	<u>Нет</u> Обоснование: <u>Пот как дорога имеет ширину в 6 метров.</u>
9.	Какие хозяйственные объекты можно увидеть на карте в городе Снов?	<u>Электростанция, склад муки, склад сахара</u>



*По горизонтали.*

1. Крупнейшее пресноводное озеро ледниково-тектонического происхождения в Европе, раскинувшееся на территории двух субъектов Российской Федерации.
3. Расположенное в юго-западной части плато Путорана пресноводное озеро тектонического происхождения, юго-восточный берег которого считается географическим центром России.
7. В составе комплексного объекта «Золотые горы Алтая» это сибирское озеро ледниково-тектонического происхождения входит в список Всемирного наследия ЮНЕСКО.
9. Самое северное в мире крупное озеро, имеющее ледниково-тектоническое происхождение, название которого совпадает с названием полуострова, на котором оно расположено.



*По вертикали.*

2. Бессточное соленое озеро в России, расположенное на Барабинской низменности в Сибири.
4. Озеро ледникового происхождения в Новгородской области.



5. Озеро вулканического происхождения, являющееся самым большим пресноводным озером крупного полуострова России.

6. Система озер ледникового происхождения на территории двух областей России. Другое название – Осташковское.

8. Озеро, акватория которого имеет международный статус, самый крупный пресноводный водоем на Дальнем Востоке.

10. Второй по величине пресноводный водоем в Европе, раскинувшийся на территории трех субъектов Российской Федерации.

2. Многим знакомо выражение «Чтобы узнать человека, с ним нужно пуд соли съесть». Это означает, что познать человека, его характер, его надежность можно только с течением времени.

1 пуд примерно равен 16 кг. По мнению ряда исследователей, в сутки человек в среднем потребляет 6 г соли (иногда приводят и большие цифры). Сколько литров воды каждого из озер, данные о которых представлены в таблице, необходимо, чтобы обеспечить годовую потребность соли семьи из 4 человек (столбец «Ответ 1» в таблице 1)? Сколько литров воды каждого из этих же озер потребуется, чтобы получить тот самый пуд соли (при 100% извлечении соли из воды) (столбец «Ответ 2» в таблице 1).

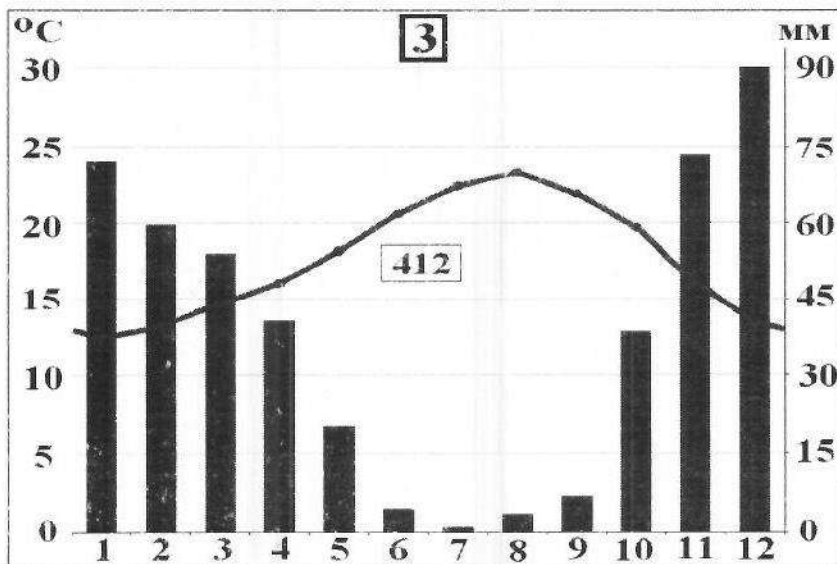
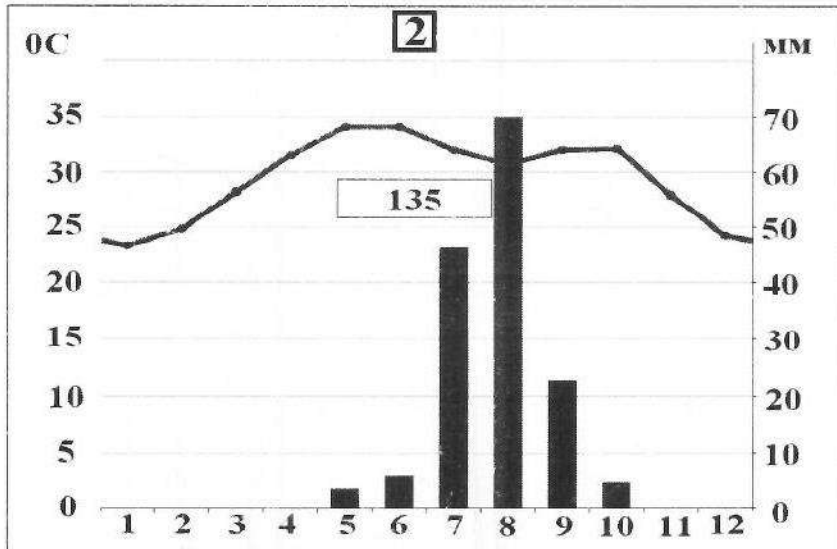
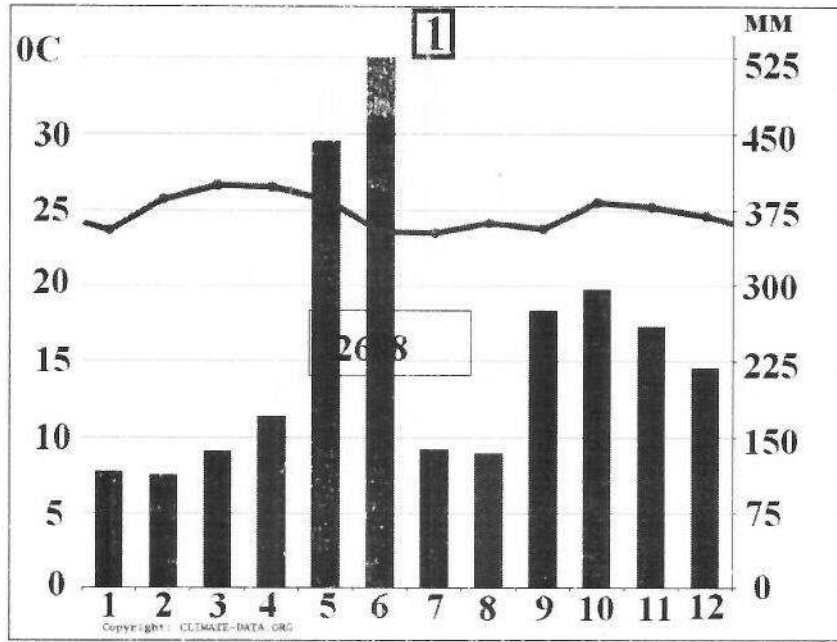
Таблица 1

Озеро	Субъект Российской Федерации, на территории которого расположено озеро	Средняя соленость, ‰	Средняя соленость, г/л	Ответ 1, л	Ответ 2, л
Баскунчак	Астраханская обл.	300	300	29,2	53,33
Эльтон	Волгоградская обл.	350	350	25,03	45,71
Дус-Холь	Республика Тыва	280	280	31,3	57,14
Чаны	Новосибирская обл.	60	60	146	266,66
Байкал	Республика Бурятия, Иркутская область	0,12	0,12	73000	133,33

КОЛИЧЕСТВО БАЛЛОВ – 25

### Задание 3. «Климатическая прогулка».

1. Вам представлены на рассмотрение три диаграммы различных типов и подтипов климата Африки (1, 2 и 3). Внимательно изучите их и впишите номера диаграмм в соответствующие этим типам климата квадраты на карте Африки (рис. 2).



2. Проведя исследование климатограмм, заполните таблицу 2.

Таблица 2

№ климатограммы	Определение параметров климата	Вывод о типе/подтипе климата
1	1. Годовое количество осадков: <u>2688</u> мм; 2. Температура самого теплого месяца: <u>35</u> °С; 3. Температура самого холодного месяца: <u>7</u> °С; 4. Годовая амплитуда температуры: <u>28</u> °С	<i>Тропический</i>
2	1. Годовое количество осадков: <u>135</u> мм; 2. Температура самого теплого месяца(ев): <u>35</u> °С; 3. Температура самого холодного месяца: <u>2</u> °С; 4. Годовая амплитуда температуры: <u>33</u> °С	<i>Пустынный</i>
3	1. Годовое количество осадков: <u>412</u> мм; 2. Температура самого теплого месяца(ев): <u>30</u> °С; 3. Температура самого холодного месяца: <u>1</u> °С; 4. Годовая амплитуда температуры: <u>29</u> °С; 5. Месяц с максимальным количеством осадков: <u>Август</u> ; 6. Месяц с минимальным количеством осадков: <u>Январь</u>	<i>Субтропический</i>

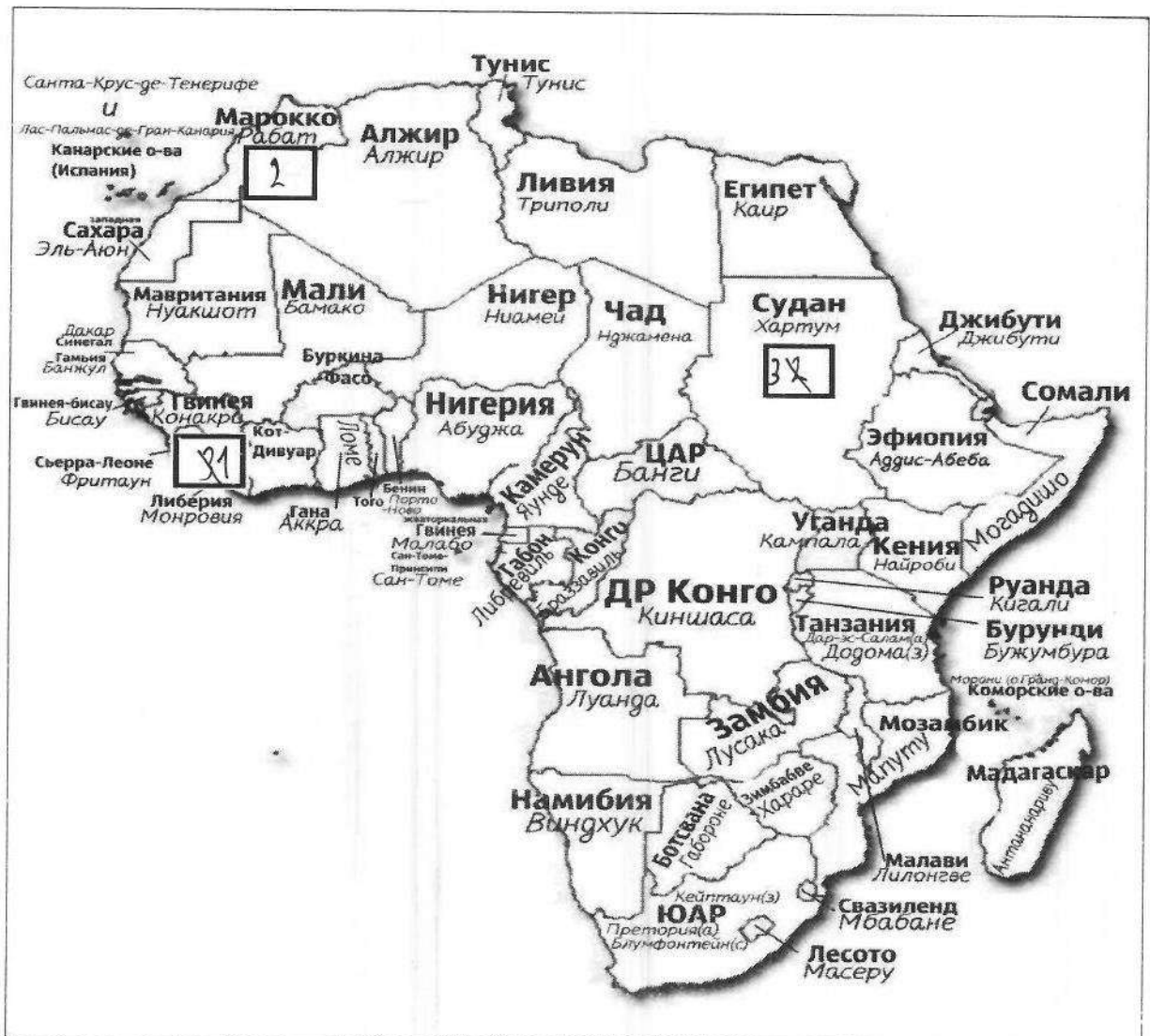


Рис. 2. Африка

3. Ответьте на вопросы, связанные с формированием некоторых типов климата на изучаемой территории. Свои выводы запишите в таблицу 3 в соответствующие ячейки.

Таблица 3

№	Вопрос	Ответ
1.	Объясните, с чем связано различие значений температур и количества выпадаемых осадков в теплый и холодный период времени?	С увеличением и уменьшением температуры
2.	С чем связано большое и постоянное по месяцам количество осадков в типе, климата, изображенном на диаграмме под номером 1?	С расположением в тропических широтах.
3.	Как можно оценить суточные амплитуды температуры воздуха климата, представленного на диаграмме 2? С чем связаны такие значения суточных амплитуд?	
4.	На климат каких территорий Африки оказывают значительное влияние холодные океанические течения? Назовите эти течения. В чем проявляется их влияние на климат?	Территории: 1. <u>Андебурге</u> ; 2. <u>Мозамбик</u> ; 3. <u>Суван</u> . Течения: 1. <u>Бальзастровини</u> ; 2. _____ ; 3. _____ . Влияние:

№	Вопрос	Ответ
5.	Назовите ветры, которые дуют в Африке из тропических широт в экваториальные и имеют северо-восточное и юго-восточное направление (в зависимости от полушария).	<u>Пассат</u>



КОЛИЧЕСТВО БАЛЛОВ – 25



**Задание 4. «Виртуальная прогулка по странам».**

Вам предстоит виртуальная прогулка по некоторым странам мира. В таблице 4 представлены описания или фото-миниатюры особенностей или достопримечательностей некоторых стран мира. Вам необходимо ознакомиться с этими особенностями на миниатюрах и ответить на вопросы.

Таблица 4

№	Особенности и миниатюры	Вопросы
1.	<p>По ряду представленных фотографий определите, о какой стране идет речь.</p> 	<p>1. Название достопримечательности: <u>Лондонский Тауэр</u>.</p> <p>2. Страна: <u>Великобритания</u>.</p> <p>3. Столица: <u>Лондон</u>.</p> <p>4. Река, омывающая достопримечательность: <u>Темза</u>.</p> <p>5. Название моста на 2 рисунке: <u>Тауэрский Мост</u>.</p> <p>6. Как называются проливы между островами, на котором находится страна, и основной территорией Европейского континента:            1) <u>Ла-Манш</u>;            2) _____.</p>
2.	<p>Какая страна изображена на фотографии-миниатюре?</p>	<p>1. Страна: <u>Ямайка</u>.</p> <p>2. Столица этой страны: <u>Кингстон</u>.</p> <p>3. Название священной горы (вулкана) этой страны: <u>Джуджунья</u>.</p> <p>4. Название большого количества островов, расположенных на небольшом расстоянии друг от друга (характерно для этой страны): <u>Архипелаг</u>.</p> <p>5. Цветок, воспеваемые в культуре этой страны и связанный со многими</p>

№	Особенности и миниатюры	Вопросы
		<p>традициями: <u>Вимина</u>.</p> <p>6. Популярный ядовитый рыбный деликатес страны: <u>Фуру</u>.</p> <p>7. Формальный глава этой страны: <u>Император</u>.</p> <p>8. Традиционная одежда этой страны: <u>Кимono</u>.</p> <p>9. Традиционный вид борьбы в стране: <u>Сумо</u>.</p>
3.		<p>1. Эта страна находится на полуострове, расположенном между Аравийским морем и Бенгальским заливом. Название полуострова: <u>Индостан</u>.</p> <p>2. Название страны: <u>Индия</u>.</p> <p>3. Столица этой страны: <u>Дели</u>.</p> <p>4. Священное животное в этой стране: <u>Корова</u>.</p> <p>5. Главная административно-территориальная единица страны: <u>Штат</u>.</p> <p>6. Известный мавзолей-мечеть, расположенный в этой стране: <u>Тадж-Махал</u>.</p> <p>7. Как называют жителей этой страны, приверженцев индуизма: <u>Индусы</u>.</p> <p>8. Как называется островное государство, расположенное к югу от полуострова, на котором расположена исследуемая страна (остров имеет такое же название, как и страна): <u>Нидерланды Индонезия</u>.</p>

№	Особенности и миниатюры	Вопросы
		
4.	<p>Эта страна находится на севере и западе самого большого полуострова Европы. Флаг этой страны – синий крест на красном фоне.</p> 	<ol style="list-style-type: none"> <li>1. Название самого большого полуострова Европы: <u>Скандинавия</u>.</li> <li>2. Название страны: <u>Норвегия</u>.</li> <li>3. Столица этой страны: <u>Осло</u>.</li> <li>4. Самый большой северный сосед этой страны (страна): <u>Россия</u>.</li> <li>5. Северный народ, живущий издревле на территории этой страны и упомянутом полуострове: <u>Викинги, норвежцы</u>.</li> <li>6. Как называется корабль этого народа: <u>Драккар</u>.</li> </ol>

КОЛИЧЕСТВО БАЛЛОВ – 15

КОЛИЧЕСТВО БАЛЛОВ ЗА АНАЛИТИЧЕСКИЙ РАУНД – 80

ОБЩЕЕ КОЛИЧЕСТВО БАЛЛОВ – 100