

Шифр И-7-9

Бланк регистрации

Фамилия, Имя, Отчество ИВАНОВ АЛЕКСАНДР СТАНИСЛАВОВИЧ

Класс 7

Образовательная организация МБОУ "Классическая школа" г. Турьевска

Название предмета История

№ аудитории 38

Дата проведения олимпиады 25.11.20


**ВСЕРОССИЙСКАЯ ОЛИМПИАДА ШКОЛЬНИКОВ
МУНИЦИПАЛЬНЫЙ ЭТАП**

*ИСТОРИЯ
7 КЛАСС*

**Максимальное количество баллов – 100.
Общее время выполнения работы – 90 минут.**

Задание 1. Выберите один правильный ответ. Ответ внесите в таблицу.

- 1.1. Какое из указанных событий произошло в московском государстве в период правления сына Ивана III? А) присоединение новгородских земель Б) присоединение Рязани, Пскова и Смоленска В) строительство белокаменного Кремля Г) Куликовская битва
- 1.2. Какое из указанных орудий труда выполняло ту же функцию в хозяйстве древнерусского крестьянина, что и соха? А) борона Б) рало В) серп Г) горбуша Д) цеп
- 1.3. Какой из указанных соборов был возведен по приказу князя Андрея Боголюбского во Владимире?



1.4. Из указанных лиц современниками **не** были:

А) Ричард I Львиное Сердце и Всеволод Большое Гнездо; Б) Марко Поло и Иван I Калита; В) Гуго Капет и Владимир Святой; Г) Карл Великий и Олег Вещий

1.5. Какое событие произошло 6 декабря 1240 года? А) Ледовое побоище Б) битва на реке Сить В) Битва на реке Калка Г) взятие Киева монголами

1.1.	1.2	1.3	1.4	1.5
Б	А	А	Г	Б

Количество баллов – 10.

Задание 2. Выберите несколько правильных ответов. Ответы внесите в таблицу.

2.1. Какие из указанных древних народов относятся к славянам?

А) пруссы Б) поляки В) жмудь Г) авары Д) готы Е) бужане

2.2. Какие исторические деятели **не** являлись современниками событий феодальной войны в Московском государстве в годы правления Василия II Темного? А) Василий Косой Б) Софья Витовтовна В) Феофан Грек Г) Дмитрий Шемяка Д) Сергей Радонежский

2.3. Какие два князя, будучи братьями, сумели благодаря совместным действиям впервые получить для Московского княжества ханский ярлык на Великое Владимирское княжение.

А) Дмитрий Донской Б) Иван Калита В) Андрей Боголюбский Г) Всеволод Большое Гнездо Д) Юрий Данилович

2.4. Какие из указанных событий произошли с разницей в сто лет? А) падение Византийской империи Б) образование Священной Римской империи германской нации В) призвание Рюрика в Новгород Г) крещение Руси Д) первый крестовый поход

2.1.	2.2.	2.3.	2.4.
Б, В	Б, В	А, Д	А, Д

Количество баллов – 12.

Задание 3. Соотнесите произведения древнерусской литературы и века, к которым относятся описанные в указанных произведениях события.

	Произведения древнерусской литературы		Век
1	«Хождение за три моря» купца Афанасия Никитина	А	XI
2	«Повесть о разорении Рязани Батыем»	Б	XII
3	«Сказание о мамаевом побоище»	В	XIII
4	«Слово о полку Игореве»	Г	XIV

5	«Слово о законе и благодати» митрополита Иллариона	Д	XV
---	--	---	----

1	2	3	4	5
А	В	Г	Б	А·А

Количество баллов – 10.

Задание 4. По какому принципу образован ряд. Дайте максимально точный ответ. Определите, какое из перечисленных понятий лишнее? Лишнее слово зачеркните.

4.1. златари, скорняки, баскаки, толмачи, зодчие, ~~бортники~~

~~Борты бортники, это собирают АИ АИИ, НАЛОГОВ И Т.К.~~

4.2. битва при Креси, битва при Пуатье, битва при Азенкуре, осада Орлеана, битва при Гастингсе, осада Руана

4.3. война с Хазарским каганатом, война с половцами, война с Болгарским царством, война с Византией, война с печенегами, война с Волжской Булгарией

~~Война с половцами, Все остальные события относятся к Святославу I~~


Количество баллов – 12.

Задание 5. Внимательно изучите предложенные изображения. Определите, какие события изображены на почтовых марках, укажите годы, когда они произошли, а также назовите одного исторического деятеля-участника каждого из указанных событий. Внесите ответы в таблицу.




„И бысть сѣча велика...“

А)



Б)



В)



Г)

	Событие	Год	Участник
А	Невская битва	1240	Александр Невский
Б		1410	
В	Куликовская битва	1380	Дмитрий Донской
Г	ледовое побоище	1242	Александр Невский

Количество баллов - 12.

Задание 6. Определите пропущенные в тексте слова, обозначенные порядковыми номерами. Необходимые вставки впишите под соответствующими номерами в помещённую ниже таблицу.

Старший сын Василия II Васильевича Тёмного стал великим московским князем в (1 – год начала правления) году. Продолжив политику отца, (2 - имя и порядковый номер правителя) силой или дипломатическими соглашениями

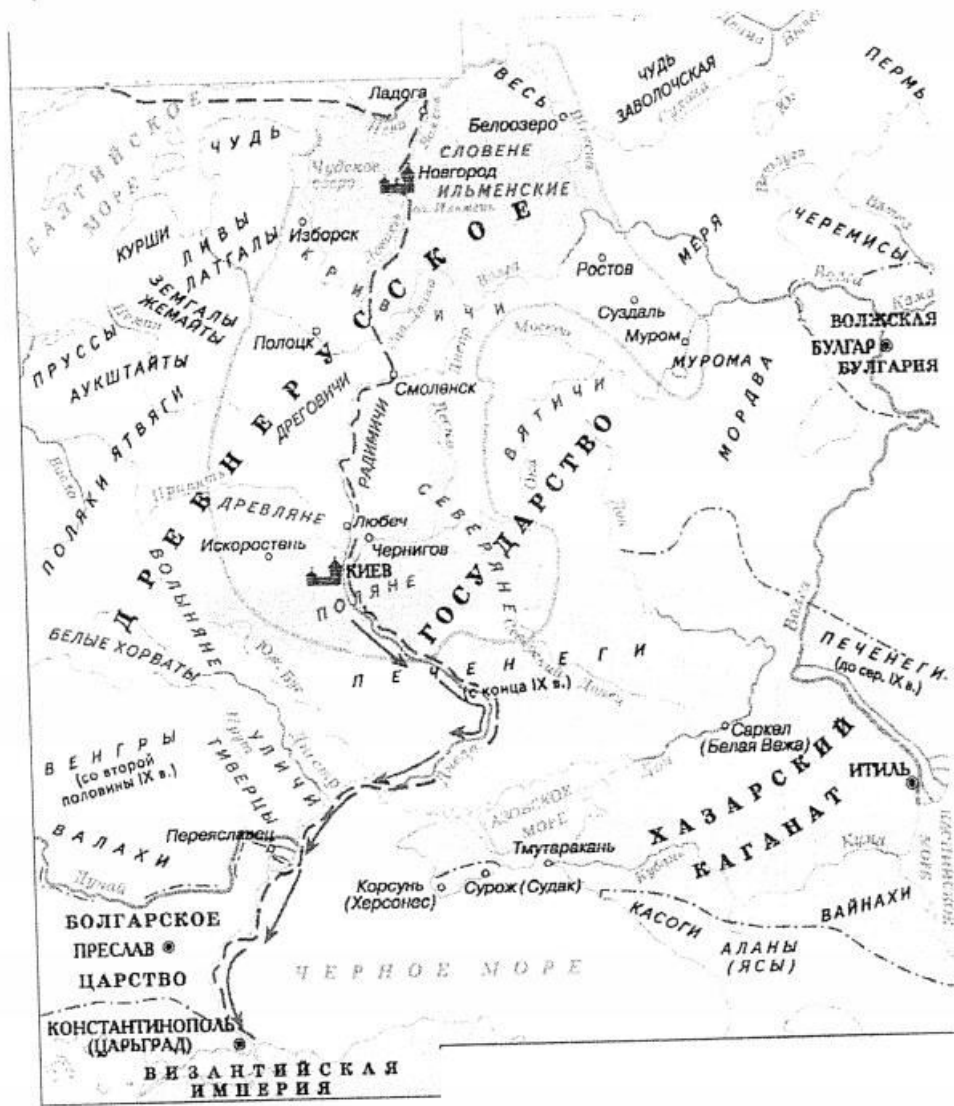
подчинил себе княжества: Ярославское (1463), Ростовское (1474), (3 – название княжества) (1485), Вятскую землю (1489) и др. В 1471 совершил поход на (4 – название города) и ... одержал победу в последней феодальной войне на Руси. В 1480 ордынский хан (5 - имя хана) двинул огромное войско на Русь, желая вновь подчинить страну, не платившую дань с 1476 года. В это время Русь воевала ... с (6 – название) орденом. К тому же (5 – имя хана) заключил договор с польско-(7 - название части государства) королем Казимиром. Началось "Стояние на (8 – название места)". Победа князя означала конец монголо-татарского (9 – исторический термин) на Руси. Москва ... приобрела новый облик. Началось строительство нового Кремля, (10 - названия сооружения) палаты. В Москве появилось много иностранцев: ... греческие родственники племянницы византийского императора Софьи (11 – фамилия), на которой женился князь. Появился и первый законодательный кодекс Русского централизованного государства - (12 – название документа) 1497 года.
(Шикман А.П.)

1	1440	7	ЛИТОВСКИМ
2	ИВАН III ВЕЛИКИЙ	8	РЕКЕ УГРЕ
3	РАЗН СКОЕ КНЯЖЕСТВО	9	ИГО
4	НОВГОРОД	10	ГРАНОВИТОЙ
5		11	Вн МОНОМАХИ
6	ЛИВОНСКИМ	12	

Количество баллов – 12.

Задание 7. Изучите предложенную карту-схему, после чего вставьте в текст пропущенные слова.

1. На схеме изображен период отечественной истории, который пришелся на конец 9 века – начало 10 века.
2. Правителем древнерусского государства в этот период был князь ОЛЕГ I ВЕЩИЙ
3. Столицей государства в этот период был город КИЕВ.
4. Пунктиром на карте обозначен ПУТЬ из ВАРЯГ в ГРЕКИ.
5. Стрелками на карте обозначен Путь ОЛЕГА ВЕЩЕГО НА ЦАРЬГРАД
6. Приемником правящего в указанный период князя был князь ИГОРЬ I СТАРЫЙ



Количество баллов – 9.

Задание 8. Перед Вами список событий, произошедших в периоды правления киевских князей Ярослава Мудрого и Владимира Мономаха. Запишите в таблицу порядковые номера соответствующих правлению каждого князя событий.

- 1) составление «Повести временных лет»;
- 2) основание города Юрьева;
- 3) составление «Поучения детям»;
- 4) составление «Устава о резах»;
- 5) разгром печенегов под Киевом;
- 6) закладка собора Святой Софии в Киеве;
- 7) основание Киево-Печерского монастыря;

Ярослав Мудрый	Владимир Мономах
2, 6, 7	1, 3, 4, 5

Количество баллов – 7.

Задание 9. Изучите представленные исторические термины. Впишите правильную букву (буквы) вместо пропусков (Количество точек, обозначающих пропуски, не равняется числу букв, которые следует вписать).

1	ка л .анат	6	пе л .енеги
2	дру ж ина	7	Х.олоп
3	поса л .ник	8	...уде л .ник
4	смер л .	9	во л .чина
5	по л .ес л .ье		

Количество баллов – 7.

Задание 10. Расположите в хронологической последовательности следующие события отечественной истории. Внесите буквенные обозначения событий в хронологическом порядке в приведенную таблицу.

- А) Падение Константинополя под ударами турок-османов
- Б) Образование Золотой Орды
- В) Перенос резиденции митрополита русской православной церкви в Москву
- Г) Поход Тохтамыша на Москву
- Д) Первое летописное упоминание о Москве

А	Б	В	Г	А
---	---	---	---	---

Количество баллов – 9.